

Муниципальное бюджетное общеобразовательное учреждение
Костомукшского муниципального округа
«Средняя общеобразовательная школа №1 с углубленным изучением
иностранного языка имени Я.В. Ругоева»

СОГЛАСОВАНА
на заседании методического
совета
протокол № 4 от 09.02.2026 г.
Руководитель методического
совета: _____
(Л.П.Петрасова)

ПРИНЯТА
на педагогическом совете
протокол №7 от 11.02.2026 г.

УТВЕРЖДЕНА
Директор: _____
(Н.Ю.Федотова)
приказ от 12.02.2026 г. № 46 -о/д

ДОКУМЕНТ ПОДПИСАН
ЭЛЕКТРОННОЙ ПОДПИСЬЮ

Сертификат: 5CF8D707ACD9477A01906B967F7E3AFF
Владелец: Федотова Наталья Юрьевна
Действителен: с 30.10.2025 до 23.01.2027

РАБОЧАЯ ПРОГРАММА
учебного предмета «Геометрия. Базовый уровень»
основной образовательной программы основного общего образования
(7-9 классы)
срок реализации программы -3 года

Авторы-составители:
учитель
высшей квалификационной категории
Сорокина Лариса Владимировна
Иванова Нина Васильевна
Максимова Инна Николаевна

г. Костомукша
2026 год

ПОЯСНИТЕЛЬНАЯ ЗАПИСКА

Геометрия как один из основных разделов школьной математики, имеющий своей целью обеспечить изучение свойств и размеров фигур, их отношений и взаимное расположение, опирается на логическую, доказательную линию. Ценность изучения геометрии на уровне основного общего образования заключается в том, что обучающийся учится проводить доказательные рассуждения, строить логические умозаключения, доказывать истинные утверждения и строить контрпримеры к ложным, проводить рассуждения «от противного», отличать свойства от признаков, формулировать обратные утверждения.

Второй целью изучения геометрии является использование её как инструмента при решении как математических, так и практических задач, встречающихся в реальной жизни. Обучающийся должен научиться определить геометрическую фигуру, описать словами данный чертёж или рисунок, найти площадь земельного участка, рассчитать необходимую длину оптоволоконного кабеля или требуемые размеры гаража для автомобиля. Этому соответствует вторая, вычислительная линия в изучении геометрии. При решении задач практического характера обучающийся учится строить математические модели реальных жизненных ситуаций, проводить вычисления и оценивать адекватность полученного результата.

Крайне важно подчёркивать связи геометрии с другими учебными предметами, мотивировать использовать определения геометрических фигур и понятий, демонстрировать применение полученных умений в физике и технике. Эти связи наиболее ярко видны в темах «Векторы», «Тригонометрические соотношения», «Метод координат» и «Теорема Пифагора».

Учебный курс «Геометрия» включает следующие основные разделы содержания: «Геометрические фигуры и их свойства», «Измерение геометрических величин», «Декартовы координаты на плоскости», «Векторы», «Движения плоскости», «Преобразования подобия».

На изучение учебного курса «Геометрия» отводится 204 часа: в 7 классе – 68 часов (2 часа в неделю), в 8 классе – 68 часов (2 часа в неделю), в 9 классе – 68 часов (2 часа в неделю).

СОДЕРЖАНИЕ ОБУЧЕНИЯ

7 КЛАСС

Начальные понятия геометрии. Точка, прямая, отрезок, луч. Угол. Виды углов. Вертикальные и смежные углы. Биссектриса угла. Ломаная, многоугольник. Параллельность и перпендикулярность прямых.

Симметричные фигуры. Основные свойства осевой симметрии. Примеры симметрии в окружающем мире.

Основные построения с помощью циркуля и линейки. Треугольник. Высота, медиана, биссектриса, их свойства.

Равнобедренный и равносторонний треугольники. Неравенство треугольника.

Свойства и признаки равнобедренного треугольника. Признаки равенства треугольников.

Свойства и признаки параллельных прямых. Сумма углов треугольника. Внешние углы треугольника.

Прямоугольный треугольник. Свойство медианы прямоугольного треугольника, проведённой к гипотенузе. Признаки равенства прямоугольных треугольников. Прямоугольный треугольник с углом в 30° .

Неравенства в геометрии: неравенство треугольника, неравенство о длине ломаной, теорема о большем угле и большей стороне треугольника. Перпендикуляр и наклонная.

Геометрическое место точек. Биссектриса угла и серединный перпендикуляр к отрезку как геометрические места точек.

Окружность и круг, хорда и диаметр, их свойства. Взаимное расположение окружности и прямой. Касательная и секущая к окружности. Окружность, вписанная в угол. Вписанная и описанная окружности треугольника.

8 КЛАСС

Четырёхугольники. Параллелограмм, его признаки и свойства. Частные случаи параллелограммов (прямоугольник, ромб, квадрат), их признаки и свойства. Трапеция, равнобокая трапеция, её свойства и признаки. Прямоугольная трапеция.

Метод удвоения медианы. Центральная симметрия. Теорема Фалеса и теорема о пропорциональных отрезках.

Средние линии треугольника и трапеции. Центр масс треугольника.

Подобие треугольников, коэффициент подобия. Признаки подобия треугольников. Применение подобия при решении практических задач.

Свойства площадей геометрических фигур. Формулы для площади треугольника, параллелограмма, ромба и трапеции. Отношение площадей подобных фигур.

Вычисление площадей треугольников и многоугольников на клетчатой бумаге.

Теорема Пифагора. Применение теоремы Пифагора при решении практических задач.

Синус, косинус, тангенс острого угла прямоугольного треугольника. Основное тригонометрическое тождество. Тригонометрические функции углов в 30 , 45 и 60° .

Вписанные и центральные углы, угол между касательной и хордой. Углы между хордами и секущими. Вписанные и описанные четырёхугольники. Взаимное

расположение двух окружностей. Касание окружностей. Общие касательные к двум окружностям.

9 КЛАСС

Синус, косинус, тангенс углов от 0 до 180° . Основное тригонометрическое тождество. Формулы приведения.

Решение треугольников. Теорема косинусов и теорема синусов. Решение практических задач с использованием теоремы косинусов и теоремы синусов.

Преобразование подобия. Подобие соответственных элементов.

Теорема о произведении отрезков хорд, теоремы о произведении отрезков секущих, теорема о квадрате касательной.

Вектор, длина (модуль) вектора, сонаправленные векторы, противоположно направленные векторы, коллинеарность векторов, равенство векторов, операции над векторами. Разложение вектора по двум неколлинеарным векторам. Координаты вектора. Скалярное произведение векторов, применение для нахождения длин и углов.

Декартовы координаты на плоскости. Уравнения прямой и окружности в координатах, пересечение окружностей и прямых. Метод координат и его применение.

Правильные многоугольники. Длина окружности. Градусная и радианная мера угла, вычисление длин дуг окружностей. Площадь круга, сектора, сегмента.

Движения плоскости и внутренние симметрии фигур (элементарные представления). Параллельный перенос. Поворот.

ПЛАНИРУЕМЫЕ РЕЗУЛЬТАТЫ ОСВОЕНИЯ ПРОГРАММЫ УЧЕБНОГО КУРСА «ГЕОМЕТРИЯ» НА УРОВНЕ ОСНОВНОГО ОБЩЕГО ОБРАЗОВАНИЯ

ЛИЧНОСТНЫЕ РЕЗУЛЬТАТЫ

Личностные результаты освоения программы учебного курса «Геометрия» характеризуются:

1) патриотическое воспитание:

проявлением интереса к прошлому и настоящему российской математики, ценностным отношением к достижениям российских математиков и российской математической школы, к использованию этих достижений в других науках и прикладных сферах;

2) гражданское и духовно-нравственное воспитание:

готовностью к выполнению обязанностей гражданина и реализации его прав, представлением о математических основах функционирования различных структур, явлений, процедур гражданского общества (например, выборы, опросы), готовностью к обсуждению этических проблем, связанных с практическим применением достижений науки, осознанием важности морально-этических принципов в деятельности учёного;

3) трудовое воспитание:

установкой на активное участие в решении практических задач математической направленности, осознанием важности математического образования на протяжении всей жизни для успешной профессиональной деятельности и развитием необходимых умений, осознанным выбором и построением индивидуальной траектории образования и жизненных планов с учётом личных интересов и общественных потребностей;

4) эстетическое воспитание:

способностью к эмоциональному и эстетическому восприятию математических объектов, задач, решений, рассуждений, умению видеть математические закономерности в искусстве;

5) ценности научного познания:

ориентацией в деятельности на современную систему научных представлений об основных закономерностях развития человека, природы и общества, пониманием математической науки как сферы человеческой деятельности, этапов её развития и значимости для развития цивилизации, овладением языком математики и математической культурой как средством познания мира, овладением простейшими навыками исследовательской деятельности;

6) физическое воспитание, формирование культуры здоровья и эмоционального благополучия:

готовностью применять математические знания в интересах своего здоровья, ведения здорового образа жизни (здоровое питание, сбалансированный режим занятий и отдыха, регулярная физическая активность), сформированностью навыка рефлексии, признанием своего права на ошибку и такого же права другого человека;

7) экологическое воспитание:

ориентацией на применение математических знаний для решения задач в области сохранности окружающей среды, планирования поступков и оценки их возможных последствий для окружающей среды, осознанием глобального характера экологических проблем и путей их решения;

8) адаптация к изменяющимся условиям социальной и природной среды:

готовностью к действиям в условиях неопределённости, повышению уровня своей компетентности через практическую деятельность, в том числе умение учиться у других людей, приобретать в совместной деятельности новые знания, навыки и компетенции из опыта других;

необходимостью в формировании новых знаний, в том числе формулировать идеи, понятия, гипотезы об объектах и явлениях, в том числе ранее неизвестных, осознавать дефициты собственных знаний и компетентностей, планировать своё развитие;

способностью осознавать стрессовую ситуацию, воспринимать стрессовую ситуацию как вызов, требующий контрмер, корректировать принимаемые решения и действия, формулировать и оценивать риски и последствия, формировать опыт.

МЕТАПРЕДМЕТНЫЕ РЕЗУЛЬТАТЫ

Познавательные универсальные учебные действия

Базовые логические действия:

- выявлять и характеризовать существенные признаки математических объектов, понятий, отношений между понятиями, формулировать определения понятий, устанавливать существенный признак классификации, основания для обобщения и сравнения, критерии проводимого анализа;
- воспринимать, формулировать и преобразовывать суждения: утвердительные и отрицательные, единичные, частные и общие, условные;
- выявлять математические закономерности, взаимосвязи и противоречия в фактах, данных, наблюдениях и утверждениях, предлагать критерии для выявления закономерностей и противоречий;
- делать выводы с использованием законов логики, дедуктивных и индуктивных умозаключений, умозаключений по аналогии;
- разбирать доказательства математических утверждений (прямые и от противного), проводить самостоятельно несложные доказательства математических фактов, выстраивать аргументацию, приводить примеры и контрпримеры, обосновывать собственные рассуждения;
- выбирать способ решения учебной задачи (сравнивать несколько вариантов решения, выбирать наиболее подходящий с учётом самостоятельно выделенных критериев).

Базовые исследовательские действия:

- использовать вопросы как исследовательский инструмент познания, формулировать вопросы, фиксирующие противоречие, проблему, самостоятельно устанавливать искомое и данное, формировать гипотезу, аргументировать свою позицию, мнение;
- проводить по самостоятельно составленному плану несложный эксперимент, небольшое исследование по установлению особенностей математического объекта, зависимостей объектов между собой;

- самостоятельно формулировать обобщения и выводы по результатам проведённого наблюдения, исследования, оценивать достоверность полученных результатов, выводов и обобщений;
- прогнозировать возможное развитие процесса, а также выдвигать предположения о его развитии в новых условиях.

Работа с информацией:

- выявлять недостаточность и избыточность информации, данных, необходимых для решения задачи;
- выбирать, анализировать, систематизировать и интерпретировать информацию различных видов и форм представления;
- выбирать форму представления информации и иллюстрировать решаемые задачи схемами, диаграммами, иной графикой и их комбинациями;
- оценивать надёжность информации по критериям, предложенным учителем или сформулированным самостоятельно.

Коммуникативные универсальные учебные действия:

- воспринимать и формулировать суждения в соответствии с условиями и целями общения, ясно, точно, грамотно выражать свою точку зрения в устных и письменных текстах, давать пояснения по ходу решения задачи, комментировать полученный результат;
- в ходе обсуждения задавать вопросы по существу обсуждаемой темы, проблемы, решаемой задачи, высказывать идеи, нацеленные на поиск решения, сопоставлять свои суждения с суждениями других участников диалога, обнаруживать различие и сходство позиций, в корректной форме формулировать разногласия, свои возражения;
- представлять результаты решения задачи, эксперимента, исследования, проекта, самостоятельно выбирать формат выступления с учётом задач презентации и особенностей аудитории;
- понимать и использовать преимущества командной и индивидуальной работы при решении учебных математических задач;
- принимать цель совместной деятельности, планировать организацию совместной работы, распределять виды работ, договариваться, обсуждать процесс и результат работы, обобщать мнения нескольких людей;
- участвовать в групповых формах работы (обсуждения, обмен мнениями, мозговые штурмы и другие), выполнять свою часть работы и координировать свои действия с другими членами команды, оценивать качество своего вклада в общий продукт по критериям, сформулированным участниками взаимодействия.

Регулятивные универсальные учебные действия

Самоорганизация:

- самостоятельно составлять план, алгоритм решения задачи (или его часть), выбирать способ решения с учётом имеющихся ресурсов и собственных возможностей, аргументировать и корректировать варианты решений с учётом новой информации.

Самоконтроль, эмоциональный интеллект:

- владеть способами самопроверки, самоконтроля процесса и результата решения математической задачи;
- предвидеть трудности, которые могут возникнуть при решении задачи, вносить коррективы в деятельность на основе новых обстоятельств, найденных ошибок, выявленных трудностей;
- оценивать соответствие результата деятельности поставленной цели и условиям, объяснять причины достижения или недостижения цели, находить ошибку, давать оценку приобретённому опыту.

ПРЕДМЕТНЫЕ РЕЗУЛЬТАТЫ

К концу обучения в 7 классе обучающийся получит следующие предметные результаты:

Распознавать изученные геометрические фигуры, определять их взаимное расположение, изображать геометрические фигуры, выполнять чертежи по условию задачи. Измерять линейные и угловые величины. Решать задачи на вычисление длин отрезков и величин углов.

Делать грубую оценку линейных и угловых величин предметов в реальной жизни, размеров природных объектов. Различать размеры этих объектов по порядку величины.

Строить чертежи к геометрическим задачам.

Пользоваться признаками равенства треугольников, использовать признаки и свойства равнобедренных треугольников при решении задач.

Проводить логические рассуждения с использованием геометрических теорем.

Пользоваться признаками равенства прямоугольных треугольников, свойством медианы, проведённой к гипотенузе прямоугольного треугольника, в решении геометрических задач.

Определять параллельность прямых с помощью углов, которые образует с ними секущая. Определять параллельность прямых с помощью равенства расстояний от точек одной прямой до точек другой прямой.

Решать задачи на клетчатой бумаге.

Проводить вычисления и находить числовые и буквенные значения углов в геометрических задачах с использованием суммы углов треугольников и многоугольников, свойств углов, образованных при пересечении двух параллельных прямых секущей. Решать практические задачи на нахождение углов.

Владеть понятием геометрического места точек. Уметь определять биссектрису угла и серединный перпендикуляр к отрезку как геометрические места точек.

Формулировать определения окружности и круга, хорды и диаметра окружности, пользоваться их свойствами. Уметь применять эти свойства при решении задач.

Владеть понятием описанной около треугольника окружности, уметь находить её центр. Пользоваться фактами о том, что биссектрисы углов треугольника пересекаются в одной точке, и о том, что серединные перпендикуляры к сторонам треугольника пересекаются в одной точке.

Владеть понятием касательной к окружности, пользоваться теоремой о перпендикулярности касательной и радиуса, проведённого к точке касания.

Пользоваться простейшими геометрическими неравенствами, понимать их практический смысл.

Проводить основные геометрические построения с помощью циркуля и линейки.

К концу обучения **в 8 классе** обучающийся получит следующие предметные результаты:

Распознавать основные виды четырёхугольников, их элементы, пользоваться их свойствами при решении геометрических задач.

Применять свойства точки пересечения медиан треугольника (центра масс) в решении задач.

Владеть понятием средней линии треугольника и трапеции, применять их свойства при решении геометрических задач. Пользоваться теоремой Фалеса и теоремой о пропорциональных отрезках, применять их для решения практических задач.

Применять признаки подобия треугольников в решении геометрических задач.

Пользоваться теоремой Пифагора для решения геометрических и практических задач. Строить математическую модель в практических задачах, самостоятельно делать чертёж и находить соответствующие длины.

Владеть понятиями синуса, косинуса и тангенса острого угла прямоугольного треугольника. Пользоваться этими понятиями для решения практических задач.

Вычислять (различными способами) площадь треугольника и площади многоугольных фигур (пользуясь, где необходимо, калькулятором). Применять полученные умения в практических задачах.

Владеть понятиями вписанного и центрального угла, использовать теоремы о вписанных углах, углах между хордами (секущими) и угле между касательной и хордой при решении геометрических задач.

Владеть понятием описанного четырёхугольника, применять свойства описанного четырёхугольника при решении задач.

Применять полученные знания на практике – строить математические модели для задач реальной жизни и проводить соответствующие вычисления с применением подобия и тригонометрии (пользуясь, где необходимо, калькулятором).

К концу обучения **в 9 классе** обучающийся получит следующие предметные результаты:

Знать тригонометрические функции острых углов, находить с их помощью различные элементы прямоугольного треугольника («решение прямоугольных треугольников»). Находить (с помощью калькулятора) длины и углы для нетабличных значений.

Пользоваться формулами приведения и основным тригонометрическим тождеством для нахождения соотношений между тригонометрическими величинами.

Использовать теоремы синусов и косинусов для нахождения различных элементов треугольника («решение треугольников»), применять их при решении геометрических задач.

Владеть понятиями преобразования подобия, соответственных элементов подобных фигур. Пользоваться свойствами подобия произвольных фигур, уметь вычислять длины и находить углы у подобных фигур. Применять свойства подобия в практических задачах. Уметь приводить примеры подобных фигур в окружающем мире.

Пользоваться теоремами о произведении отрезков хорд, о произведении отрезков секущих, о квадрате касательной.

Пользоваться векторами, понимать их геометрический и физический смысл, применять их в решении геометрических и физических задач. Применять скалярное произведение векторов для нахождения длин и углов.

Пользоваться методом координат на плоскости, применять его в решении геометрических и практических задач.

Владеть понятиями правильного многоугольника, длины окружности, длины дуги окружности и радианной меры угла, уметь вычислять площадь круга и его частей. Применять полученные умения в практических задачах.

Находить оси (или центры) симметрии фигур, применять движения плоскости в простейших случаях.

Применять полученные знания на практике – строить математические модели для задач реальной жизни и проводить соответствующие вычисления с применением подобия и тригонометрических функций (пользуясь, где необходимо, калькулятором).

Проверяемые требования к результатам освоения основной образовательной программы (7 класс)

Код проверяемого результата	Проверяемые предметные результаты освоения основной образовательной программы основного общего образования
6	Геометрия
6.1	Распознавать изученные геометрические фигуры, определять их взаимное расположение, изображать геометрические фигуры, выполнять чертежи по условию задачи. Измерять линейные и угловые величины. Решать задачи на вычисление длин отрезков и величин углов
6.2	Делать грубую оценку линейных и угловых величин предметов в реальной жизни, размеров природных объектов. Различать размеры этих объектов по порядку величины
6.3	Строить чертежи к геометрическим задачам
6.4	Пользоваться признаками равенства треугольников, использовать признаки и свойства равнобедренных треугольников при решении задач
6.5	Проводить логические рассуждения с использованием геометрических теорем
6.6	Пользоваться признаками равенства прямоугольных треугольников, свойством медианы, проведенной к гипотенузе прямоугольного треугольника, в решении геометрических задач
6.7	Определять параллельность прямых с помощью углов, которые образует с ними секущая. Определять параллельность прямых с помощью равенства расстояний от точек одной прямой до точек другой прямой
6.8	Решать задачи на клетчатой бумаге
6.9	Проводить вычисления и находить числовые и буквенные значения углов в геометрических задачах с использованием суммы углов треугольников и многоугольников, свойств углов, образованных при

	пересечении двух параллельных прямых секущей. Решать практические задачи на нахождение углов
6.10	Владеть понятием геометрического места точек. Уметь определять биссектрису угла и серединный перпендикуляр к отрезку как геометрические места точек
6.11	Формулировать определения окружности и круга, хорды и диаметра окружности, пользоваться их свойствами. Уметь применять эти свойства при решении задач
6.12	Владеть понятием описанной около треугольника окружности, уметь находить ее центр. Пользоваться фактами о том, что биссектрисы углов треугольника пересекаются в одной точке, и о том, что серединные перпендикуляры к сторонам треугольника пересекаются в одной точке
6.13	Владеть понятием касательной к окружности, пользоваться теоремой о перпендикулярности касательной и радиуса, проведенного к точке касания
6.14	Пользоваться простейшими геометрическими неравенствами, понимать их практический смысл
6.15	Проводить основные геометрические построения с помощью циркуля и линейки

Проверяемые элементы содержания (7 класс)

Код	Проверяемый элемент содержания
6	Геометрия
6.1	Начальные понятия геометрии. Точка, прямая, отрезок, луч. Угол. Виды углов. Вертикальные и смежные углы. Биссектриса угла. Ломаная, многоугольник. Параллельность и перпендикулярность прямых
6.2	Симметричные фигуры. Основные свойства осевой симметрии. Примеры симметрии в окружающем мире
6.3	Основные построения с помощью циркуля и линейки. Треугольник. Высота, медиана, биссектриса, их свойства
6.4	Равнобедренный и равносторонний треугольники. Неравенство треугольника
6.5	Свойства и признаки равнобедренного треугольника. Признаки равенства треугольников
6.6	Свойства и признаки параллельных прямых. Сумма углов треугольника. Внешние углы треугольника
6.7	Прямоугольный треугольник. Свойство медианы прямоугольного треугольника, проведенной к гипотенузе. Признаки равенства прямоугольных треугольников. Прямоугольный треугольник с углом в 30°
6.8	Неравенства в геометрии: неравенство треугольника, неравенство о длине ломаной, теорема о большем угле и большей стороне треугольника. Перпендикуляр и наклонная
6.9	Геометрическое место точек. Биссектриса угла и серединный перпендикуляр к отрезку как геометрические места точек
6.10	Окружность и круг, хорда и диаметр, их свойства. Взаимное расположение

	окружности и прямой. Касательная и секущая к окружности
6.11	Окружность, вписанная в угол. Вписанная и описанная окружности треугольника

Проверяемые требования к результатам освоения основной образовательной программы 8 класса

Код проверяемого результата	Проверяемые предметные результаты освоения основной образовательной программы основного общего образования
6	Геометрия
6.1	Распознавать основные виды четырехугольников, их элементы, пользоваться их свойствами при решении геометрических задач
6.2	Применять свойства точки пересечения медиан треугольника (центра масс) в решении задач
6.3	Владеть понятием средней линии треугольника и трапеции, применять их свойства при решении геометрических задач. Пользоваться теоремой Фалеса и теоремой о пропорциональных отрезках, применять их для решения практических задач
6.4	Применять признаки подобия треугольников в решении геометрических задач
6.5	Пользоваться теоремой Пифагора для решения геометрических и практических задач. Строить математическую модель в практических задачах, самостоятельно делать чертеж и находить соответствующие длины
6.6	Владеть понятиями синуса, косинуса и тангенса острого угла прямоугольного треугольника. Пользоваться этими понятиями для решения практических задач
6.7	Вычислять (различными способами) площадь треугольника и площади многоугольных фигур (пользуясь, где необходимо, калькулятором). Применять полученные умения в практических задачах
6.8	Владеть понятиями вписанного и центрального угла, использовать теоремы о вписанных углах, углах между хордами (секущими) и угле между касательной и хордой при решении геометрических задач
6.9	Владеть понятием описанного четырехугольника, применять свойства описанного четырехугольника при решении задач
6.10	Применять полученные знания на практике - строить математические модели для задач реальной жизни и проводить соответствующие вычисления с применением подобия и тригонометрии (пользуясь, где необходимо, калькулятором)

Проверяемые элементы содержания (8 класс)

Код	Проверяемый элемент содержания
6	Геометрия
6.1	Четырехугольники. Параллелограмм, его признаки и свойства

6.2	Прямоугольник, ромб, квадрат, их признаки и свойства
6.3	Трапеция, равнобокая трапеция, ее свойства и признаки. Прямоугольная трапеция
6.4	Метод удвоения медианы. Центральная симметрия. Теорема Фалеса и теорема о пропорциональных отрезках
6.5	Средние линии треугольника и трапеции. Центр масс треугольника
6.6	Подобие треугольников, коэффициент подобия. Признаки подобия треугольников. Применение подобия при решении практических задач
6.7	Формулы для площади треугольника, параллелограмма, ромба и трапеции
6.8	Свойства площадей геометрических фигур. Отношение площадей подобных фигур
6.9	Вычисление площадей треугольников и многоугольников на клетчатой бумаге
6.10	Теорема Пифагора. Применение теоремы Пифагора при решении практических задач
6.11	Синус, косинус, тангенс острого угла прямоугольного треугольника. Основное тригонометрическое тождество. Тригонометрические функции углов в 30° , 45° и 60°
6.12	Вписанные и центральные углы, угол между касательной и хордой. Углы между хордами и секущими
6.13	Вписанные и описанные четырехугольники
6.14	Взаимное расположение двух окружностей. Касание окружностей. Общие касательные к двум окружностям

Проверяемые требования к результатам освоения основной образовательной программы (9 класс)

Код проверяемого результата	Проверяемые предметные результаты освоения основной образовательной программы основного общего образования
6	Геометрия
6.1	Знать тригонометрические функции острых углов, находить с их помощью различные элементы прямоугольного треугольника ("решение прямоугольных треугольников"). Находить (с помощью калькулятора) длины и углы для не табличных значений.
6.2	Пользоваться формулами приведения и основным тригонометрическим тождеством для нахождения соотношений между тригонометрическими величинами
6.3	Использовать теоремы синусов и косинусов для нахождения различных элементов треугольника ("решение треугольников"), применять их при решении геометрических задач
6.4	Владеть понятиями преобразования подобия, соответственных элементов подобных фигур. Пользоваться свойствами подобия произвольных фигур, уметь вычислять длины и находить углы у подобных фигур. Применять свойства подобия в практических задачах. Уметь приводить примеры подобных фигур в окружающем мире
6.5	Пользоваться теоремами о произведении отрезков хорд, о произведении отрезков секущих, о квадрате касательной

6.6	Пользоваться векторами, понимать их геометрический и физический смысл, применять их в решении геометрических и физических задач. Применять скалярное произведение векторов для нахождения длин и углов
6.7	Пользоваться методом координат на плоскости, применять его в решении геометрических и практических задач
6.8	Владеть понятиями правильного многоугольника, длины окружности, длины дуги окружности и радианной меры угла, уметь вычислять площадь круга и его частей. Применять полученные умения в практических задачах
6.9	Находить оси или центры симметрии фигур, применять движения плоскости в простейших случаях
6.10	Применять полученные знания на практике - строить математические модели для задач реальной жизни и проводить соответствующие вычисления с применением подобия и тригонометрических функций (пользуясь, где необходимо, калькулятором)

Таблица 10

Проверяемые элементы содержания (9 класс)

Код	Проверяемый элемент содержания
6	Геометрия
6.1	Синус, косинус, тангенс углов от 0 до 180°. Основное тригонометрическое тождество. Формулы приведения
6.2	Решение треугольников. Теорема косинусов и теорема синусов. Решение практических задач с использованием теоремы косинусов и теоремы синусов
6.3	Преобразование подобия. Подобие соответственных элементов
6.4	Теорема о произведении отрезков хорд, теоремы о произведении отрезков секущих, теорема о квадрате касательной
6.5	Вектор, длина (модуль) вектора, сонаправленные векторы, противоположно направленные векторы, коллинеарность векторов, равенство векторов, операции над векторами. Разложение вектора по двум неколлинеарным векторам
6.6	Координаты вектора. Скалярное произведение векторов, применение для нахождения длин и углов
6.7	Декартовы координаты на плоскости. Уравнения прямой и окружности в координатах, пересечение окружностей и прямых. Метод координат и его применение
6.8	Правильные многоугольники
6.9	Длина окружности. Градусная и радианная мера угла, вычисление длин дуг окружностей
6.10	Площадь круга, сектора, сегмента
6.11	Движения плоскости и внутренние симметрии фигур (элементарные представления). Параллельный перенос. Поворот

**ТЕМАТИЧЕСКОЕ ПЛАНИРОВАНИЕ
7 КЛАСС**

№ п/п	Наименование разделов и тем программы	Количество часов		Электронные (цифровые) образовательные ресурсы	Формируемые социально-значимые и ценностные отношения. (приложение)
		Всего	Контрольные работы		
1	Простейшие геометрические фигуры и их свойства. Измерение геометрических величин.	14	0	Библиотека ЦОК https://m.edsoo.ru/7f415e2e	1;2;3;4;6;8
2	Треугольники.	22	1	Библиотека ЦОК https://m.edsoo.ru/7f415e2e	1;3;4;5;6;7
3	Параллельные прямые, сумма углов треугольника	14	1	Библиотека ЦОК https://m.edsoo.ru/7f415e2e	1;2;3;4;5;6;7;8
4	Окружность и круг. Геометрические построения	14	1	Библиотека ЦОК https://m.edsoo.ru/7f415e2e	2;3;4;5;6;8
5	Повторение, обобщение знаний.	4	1	Библиотека ЦОК https://m.edsoo.ru/7f415e2e	1;2;3;6;8
ОБЩЕЕ КОЛИЧЕСТВО ЧАСОВ ПО ПРОГРАММЕ		68	4		

8 КЛАСС

№ п/п	Наименование разделов и тем программы	Количество часов		Электронные (цифровые) образовательные ресурсы	Формируемые социально-значимые и ценностные отношения. (приложение)
		Всего	Контрольные работы		
1	Четырёхугольники	12	1	Библиотека ЦОК https://m.edsoo.ru/7f417e18	1;2;3;4;5;6;7;8
2	Теорема Фалеса и теорема о пропорциональных отрезках, подобные треугольники	15	1	Библиотека ЦОК https://m.edsoo.ru/7f417e18	1;2;3;4;6;8
3	Площадь. Нахождение площадей треугольников и многоугольных фигур. Площади подобных фигур	14	1	Библиотека ЦОК https://m.edsoo.ru/7f417e18	1;3;4;5;6;7;8
4	Теорема Пифагора и начала тригонометрии	10	1	Библиотека ЦОК https://m.edsoo.ru/7f417e18	1;2;3;4;5;6;7;8
5	Углы в окружности. Вписанные и описанные четырёхугольники. Касательные к окружности. Касание окружностей	13	1	Библиотека ЦОК https://m.edsoo.ru/7f417e18	2;3;4;5;6;8
6	Повторение, обобщение знаний	4	1	Библиотека ЦОК https://m.edsoo.ru/7f417e18	1;2;3;4;5;6;7;8
ОБЩЕЕ КОЛИЧЕСТВО ЧАСОВ ПО ПРОГРАММЕ		68	6		

9 КЛАСС

№ п/п	Наименование разделов и тем программы	Количество часов		Электронные (цифровые) образовательные ресурсы	Формируемые социально-значимые и ценностные отношения. (приложение))
		Всего	Контрольные работы		
1	Тригонометрия. Теоремы косинусов и синусов. Решение треугольников	16	1	Библиотека ЦОК https://m.edsoo.ru/7f41a12c	1;2;3;5;6;8
2	Преобразование подобия. Метрические соотношения в окружности	10	1	Библиотека ЦОК https://m.edsoo.ru/7f41a12c	1;2;3;4;6;7;8
3	Векторы	12	1	Библиотека ЦОК https://m.edsoo.ru/7f41a12c	3;4;5;6;8
4	Декартовы координаты на плоскости	9	1	Библиотека ЦОК https://m.edsoo.ru/7f41a12c	1;2;4;6;7;8
5	Правильные многоугольники. Длина окружности и площадь круга. Вычисление площадей	8	0	Библиотека ЦОК https://m.edsoo.ru/7f41a12c	3;4;5;6;7;8
6	Движения плоскости	6	0	Библиотека ЦОК https://m.edsoo.ru/7f41a12c	1;3;6;7;8
7	Повторение, обобщение, систематизация знаний	7	2	Библиотека ЦОК https://m.edsoo.ru/7f41a12c	1;2;3;4;5;6;7;8
ОБЩЕЕ КОЛИЧЕСТВО ЧАСОВ ПО ПРОГРАММЕ		68	6		

ПОУРОЧНОЕ ПЛАНИРОВАНИЕ 7 КЛАСС

№ п/п	Тема урока	Количество часов	Электронные цифровые образовательные ресурсы	Основные виды деятельности
1	Простейшие геометрические объекты	1	Библиотека ЦОК https://m.edsoo.ru/8866b724	Формулировать основные понятия и определения.
2	Многоугольник, ломаная	1	Библиотека ЦОК https://m.edsoo.ru/8866cb6a	Распознавать изученные геометрические фигуры, определять их взаимное расположение, выполнять чертёж по условию задачи.
3	Смежные и вертикальные углы	1	Библиотека ЦОК https://m.edsoo.ru/8866c5c0	Проводить простейшие построения с помощью циркуля и линейки.
4	Смежные и вертикальные углы	1	Библиотека ЦОК https://m.edsoo.ru/8866c7be	Измерять линейные и угловые величины геометрических и практических объектов.

5	Смежные и вертикальные углы	1		Определять «на глаз» размеры реальных объектов, проводить грубую оценку их размеров
6	Смежные и вертикальные углы	1		Проводить классификацию углов, вычислять линейные и угловые величины, проводить необходимые доказательные рассуждения.
7	Смежные и вертикальные углы	1		Проводить классификацию углов, вычислять линейные и угловые величины, проводить необходимые доказательные рассуждения.
8	Смежные и вертикальные углы	1		Проводить классификацию углов, вычислять линейные и угловые величины, проводить

				необходимые доказательные рассуждения.
9	Измерение линейных и угловых величин, вычисление отрезков и углов	1		Проводить простейшие построения с помощью циркуля и линейки. Измерять линейные и угловые величины геометрических и практических объектов.
10	Измерение линейных и угловых величин, вычисление отрезков и углов	1	Библиотека ЦОК https://m.edsoo.ru/8866c3ea	Измерять линейные и угловые величины геометрических и практических объектов.
11	Измерение линейных и угловых величин, вычисление отрезков и углов	1		Определять «на глаз» размеры реальных объектов, проводить грубую оценку их размеров. Решать задачи на вычисление длин отрезков и величин углов.
12	Измерение линейных и угловых величин, вычисление отрезков и углов	1		Решать задачи на вычисление длин

				отрезков и величин углов.
13	Периметр и площадь фигур, составленных из прямоугольников	1		Решать задачи на взаимное расположение геометрических фигур.
14	Периметр и площадь фигур, составленных из прямоугольников	1		Решать задачи на взаимное расположение геометрических фигур. Знакомиться с историей развития геометрии
15	Понятие о равных треугольниках и первичные представления о равных фигурах	1	Библиотека ЦОК https://m.edsoo.ru/8866ce80	Строить чертежи, решать задачи с помощью нахождения равных треугольников.
16	Три признака равенства треугольников	1	Библиотека ЦОК https://m.edsoo.ru/8866d1fa	Распознавать пары равных треугольников на готовых чертежах (с указанием признаков). Строить чертежи, решать задачи с помощью нахождения равных треугольников.

17	Три признака равенства треугольников	1	Библиотека ЦОК https://m.edsoo.ru/8866d34e	Распознавать пары равных треугольников на готовых чертежах (с указанием признаков)
18	Три признака равенства треугольников	1	Библиотека ЦОК https://m.edsoo.ru/8866e01e	Распознавать пары равных треугольников на готовых чертежах (с указанием признаков)
19	Три признака равенства треугольников	1		Распознавать пары равных треугольников на готовых чертежах (с указанием признаков)
20	Три признака равенства треугольников	1		Распознавать пары равных треугольников на готовых чертежах (с указанием признаков)
21	Три признака равенства треугольников	1	Библиотека ЦОК https://m.edsoo.ru/8866e88e	Распознавать пары равных треугольников на готовых чертежах (с указанием признаков)

				признаков)
22	Признаки равенства прямоугольных треугольников	1		Выводить следствия (равенств соответствующих элементов) из равенств треугольников.
23	Признаки равенства прямоугольных треугольников	1		Выводить следствия (равенств соответствующих элементов) из равенств треугольников.
24	Свойство медианы прямоугольного треугольника, проведённой к гипотенузе	1	Библиотека ЦОК https://m.edsoo.ru/8866e9ec	Формулировать определения медианы треугольника; серединного перпендикуляра отрезка;
25	Свойство медианы прямоугольного треугольника, проведённой к гипотенузе	1		Применять признаки равенства прямоугольных треугольников в задачах.
26	Равнобедренные и равносторонние треугольники	1	Библиотека ЦОК https://m.edsoo.ru/8866d6fa	Формулировать определения: остроугольного, тупоугольного,

				прямоугольного, равнобедренного, равностороннего треугольников; биссектрисы, высоты, медианы треугольника; серединного перпендикуляра отрезка; периметра треугольника.
27	Признаки и свойства равнобедренного треугольника	1	Библиотека ЦОК https://m.edsoo.ru/8866d880	Формулировать свойства и признаки равнобедренного треугольника.
28	Признаки и свойства равнобедренного треугольника	1	Библиотека ЦОК https://m.edsoo.ru/8866d880	Формулировать свойства и признаки равнобедренного треугольника.
29	Признаки и свойства равнобедренного треугольника	1	Библиотека ЦОК https://m.edsoo.ru/8866e26c	Формулировать свойства и признаки равнобедренного треугольника. Использовать цифровые ресурсы для исследования свойств изучаемых фигур. Знакомиться с историей развития

				геометрии
30	Неравенства в геометрии	1		Использовать цифровые ресурсы для исследования свойств изучаемых фигур. Знакомиться с историей развития геометрии
31	Неравенства в геометрии	1	Библиотека ЦОК https://m.edsoo.ru/8866e3a2	Строить чертежи, решать задачи с помощью нахождения равных треугольников.
32	Неравенства в геометрии	1		Строить чертежи, решать задачи с помощью нахождения равных треугольников.
33	Неравенства в геометрии	1		Использовать цифровые ресурсы для исследования свойств изучаемых фигур. Знакомиться с историей развития геометрии
34	Прямоугольный треугольник с углом в 30°	1	Библиотека ЦОК https://m.edsoo.ru/8866eb22	Использовать цифровые ресурсы для исследования свойств изучаемых

				фигур.
35	Прямоугольный треугольник с углом в 30°	1		Использовать цифровые ресурсы для исследования свойств изучаемых фигур.
36	Контрольная работа по теме "Треугольники"	1	Библиотека ЦОК https://m.edsoo.ru/8866ecbc	Применять признаки равенства прямоугольных треугольников в задачах.
37	Параллельные прямые, их свойства	1	Библиотека ЦОК https://m.edsoo.ru/8866ef64	Формулировать понятие параллельных прямых, находить практические примеры.
38	Пятый постулат Евклида	1		Формулировать понятие параллельных прямых, находить практические примеры.
39	Накрест лежащие, соответственные и односторонние углы, образованные при пересечении параллельных прямых секущей	1	Библиотека ЦОК https://m.edsoo.ru/8866f086	Изучать свойства углов, образованных при пересечении параллельных прямых секущей.

40	Накрест лежащие, соответственные и односторонние углы, образованные при пересечении параллельных прямых секущей	1		Изучать свойства углов, образованных при пересечении параллельных прямых секущей.
41	Накрест лежащие, соответственные и односторонние углы, образованные при пересечении параллельных прямых секущей	1		Изучать свойства углов, образованных при пересечении параллельных прямых секущей.
42	Накрест лежащие, соответственные и односторонние углы, образованные при пересечении параллельных прямых секущей	1		Изучать свойства углов, образованных при пересечении параллельных прямых секущей.
43	Накрест лежащие, соответственные и односторонние углы, образованные при пересечении параллельных прямых секущей	1	Библиотека ЦОК https://m.edsoo.ru/8866f3b0	Изучать свойства углов, образованных при пересечении параллельных прямых секущей.
44	Признак параллельности прямых через равенство расстояний от точек одной прямой до второй прямой	1		Проводить доказательства параллельности двух прямых с помощью углов, образованных при пересечении этих прямых третьей прямой.

45	Признак параллельности прямых через равенство расстояний от точек одной прямой до второй прямой	1		Проводить доказательства параллельности двух прямых с помощью углов, образованных при пересечении этих прямых третьей прямой.
46	Сумма углов треугольника	1	Библиотека ЦОК https://m.edsoo.ru/8866f630	Вычислять сумму углов треугольника и многоугольника.
47	Сумма углов треугольника	1	Библиотека ЦОК https://m.edsoo.ru/8866f8ba	Вычислять сумму углов треугольника и многоугольника. Находить числовые и буквенные значения углов в геометрических задачах с использованием теорем о сумме углов треугольника и многоугольника.
48	Внешние углы треугольника	1	Библиотека ЦОК https://m.edsoo.ru/8866fa5e	Находить числовые и буквенные значения углов в геометрических задачах с

				использованием теорем о сумме углов треугольника и многоугольника.
49	Внешние углы треугольника	1		Находить числовые и буквенные значения углов в геометрических задачах с использованием теорем о сумме углов треугольника и многоугольника.
50	Контрольная работа по теме "Параллельные прямые, сумма углов треугольника"	1	Библиотека ЦОК https://m.edsoo.ru/8866fe6e	Знакомиться с историей развития геометрии
51	Окружность, хорды и диаметр, их свойства	1	Библиотека ЦОК https://m.edsoo.ru/88670800	Формулировать определения: окружности, хорды, диаметра и касательной к окружности.
52	Касательная к окружности	1	Библиотека ЦОК https://m.edsoo.ru/88670e9a	Формулировать определения: окружности, хорды, диаметра и касательной к окружности. Изучать их

				свойства, признаки, строить чертежи.
53	Окружность, вписанная в угол	1		Исследовать, в том числе используя цифровые ресурсы: окружность, вписанную в угол; центр окружности, вписанной в угол;
54	Окружность, вписанная в угол	1		Исследовать, в том числе используя цифровые ресурсы: окружность, вписанную в угол; центр окружности, вписанной в угол;
55	Понятие о ГМТ, применение в задачах	1	Библиотека ЦОК https://m.edsoo.ru/8867013e	Использовать метод ГМТ для доказательства теорем о пересечении биссектрис углов треугольника и серединных перпендикуляров к сторонам треугольника с помощью ГМТ.
56	Понятие о ГМТ, применение в задачах	1	Библиотека ЦОК	Использовать метод

			https://m.edsoo.ru/88670508	ГМТ для доказательства теорем о пересечении биссектрис углов треугольника и серединных перпендикуляров к сторонам треугольника с помощью ГМТ.
57	Биссектриса и серединный перпендикуляр как геометрические места точек	1		Использовать метод ГМТ для доказательства теорем о пересечении биссектрис углов треугольника и серединных перпендикуляров к сторонам треугольника с помощью ГМТ.
58	Окружность, описанная около треугольника	1	Библиотека ЦОК https://m.edsoo.ru/88670a62	Овладевать понятиями вписанной и описанной окружностей треугольника,

				находить центры этих окружностей.
59	Окружность, описанная около треугольника	1		Овладевать понятиями вписанной и описанной окружностей треугольника, находить центры этих окружностей.
60	Окружность, вписанная в треугольник	1	Библиотека ЦОК https://m.edsoo.ru/8867103e	Овладевать понятиями вписанной и описанной окружностей треугольника, находить центры этих окружностей.
61	Окружность, вписанная в треугольник	1		Овладевать понятиями вписанной и описанной окружностей треугольника, находить центры этих окружностей.
62	Простейшие задачи на построение	1	Библиотека ЦОК https://m.edsoo.ru/88671188	Решать основные задачи на построение: угла,

				<p>равного данному; серединного перпендикуляра данного отрезка; прямой, проходящей через данную точку и перпендикулярной данной прямой; биссектрисы данного угла; треугольников по различным элементам.</p>
63	Простейшие задачи на построение	1	<p>Библиотека ЦОК https://m.edsoo.ru/886712d2</p>	<p>Решать основные задачи на построение: угла, равного данному; серединного перпендикуляра данного отрезка; прямой, проходящей через данную точку и перпендикулярной данной прямой; биссектрисы данного угла; треугольников по различным элементам.</p>

64	Контрольная работа по теме "Окружность и круг. Геометрические построения"	1	Библиотека ЦОК https://m.edsoo.ru/88671462	Знакомиться с историей развития геометрии
65	Повторение и обобщение знаний основных понятий и методов курса 7 класса	1	Библиотека ЦОК https://m.edsoo.ru/886715b6	Решать задачи на повторение, иллюстрирующие связи между различными частями курса
66	Итоговая контрольная работа	1	Библиотека ЦОК https://m.edsoo.ru/886716ec	Решать задачи на повторение, иллюстрирующие связи между различными частями курса
67	Повторение и обобщение знаний основных понятий и методов курса 7 класса	1		Решать задачи на повторение, иллюстрирующие связи между различными частями курса
68	Повторение и обобщение знаний основных понятий и методов курса 7 класса	1	Библиотека ЦОК https://m.edsoo.ru/886719bc	Решать задачи на повторение, иллюстрирующие связи между различными частями курса
ОБЩЕЕ КОЛИЧЕСТВО ЧАСОВ ПО ПРОГРАММЕ		68		

8 КЛАСС

№ п/п	Тема урока	Количество часов	Электронные цифровые образовательные ресурсы	Основные виды деятельности
1	Параллелограмм, его признаки и свойства	1	Библиотека ЦОК https://m.edsoo.ru/88671af2	Изображать и находить на чертежах четырёхугольники разных видов и их элементы.
2	Параллелограмм, его признаки и свойства	1	Библиотека ЦОК https://m.edsoo.ru/88671ca0	Изображать и находить на чертежах четырёхугольники разных видов и их элементы.
3	Параллелограмм, его признаки и свойства	1	Библиотека ЦОК https://m.edsoo.ru/88671ca0	Формулировать определения: параллелограмма, прямоугольника, ромба, квадрата, трапеции, равнобокой трапеции, прямоугольной трапеции.
4	Частные случаи параллелограммов	1	Библиотека ЦОК	Изображать и

	(прямоугольник, ромб, квадрат), их признаки и свойства		https://m.edsoo.ru/88671dea	находить на чертежах четырёхугольники разных видов и их элементы. Формулировать определения: параллелограмма, прямоугольника, ромба, квадрата, трапеции, равнобокой трапеции, прямоугольной трапеции.
5	Частные случаи параллелограммов (прямоугольник, ромб, квадрат), их признаки и свойства	1	Библиотека ЦОК https://m.edsoo.ru/88671f20	Формулировать определения: параллелограмма, прямоугольника, ромба, квадрата, трапеции, равнобокой трапеции, прямоугольной трапеции.
6	Частные случаи параллелограммов (прямоугольник, ромб, квадрат), их признаки и свойства	1	Библиотека ЦОК https://m.edsoo.ru/8867209c	Формулировать определения: параллелограмма, прямоугольника,

				ромба, квадрата, трапеции, равнобокой трапеции, прямоугольной трапеции.
7	Трапеция	1	Библиотека ЦОК https://m.edsoo.ru/88672358	Изображать и находить на чертежах четырёхугольники разных видов и их элементы. Доказывать и использовать при решении задач признаки и свойства: параллелограмма, прямоугольника, ромба, квадрата, трапеции, равнобокой трапеции, прямоугольной трапеции.
8	Равнобокая и прямоугольная трапеции	1	Библиотека ЦОК https://m.edsoo.ru/8867252e	Доказывать и использовать при решении задач признаки и свойства: параллелограмма,

				прямоугольника, ромба, квадрата, трапеции, равнобокой трапеции, прямоугольной трапеции.
9	Равнобокая и прямоугольная трапеции	1	Библиотека ЦОК https://m.edsoo.ru/88672858	Доказывать и использовать при решении задач признаки и свойства: параллелограмма, прямоугольника, ромба, квадрата, трапеции, равнобокой трапеции, прямоугольной трапеции.
10	Метод удвоения медианы	1	Библиотека ЦОК https://m.edsoo.ru/88672b14	Применять метод удвоения медианы треугольника.
11	Центральная симметрия	1	Библиотека ЦОК https://m.edsoo.ru/88672b14	Использовать цифровые ресурсы для исследования свойств изучаемых фигур. Знакомиться с историей развития геометрии.

12	Контрольная работа по теме "Четырёхугольники"	1	Библиотека ЦОК https://m.edsoo.ru/88672c9a	Использовать цифровые ресурсы для исследования свойств изучаемых фигур. Знакомиться с историей развития геометрии.
13	Теорема Фалеса и теорема о пропорциональных отрезках	1	Библиотека ЦОК https://m.edsoo.ru/8867337a	Проводить построения с помощью циркуля и линейки с использованием теоремы Фалеса и теоремы о пропорциональных отрезках, строить четвёртый пропорциональный отрезок.
14	Средняя линия треугольника	1	Библиотека ЦОК https://m.edsoo.ru/88672e0c	Проводить построения с помощью циркуля и линейки с использованием теоремы Фалеса и теоремы о пропорциональных отрезках
15	Средняя линия треугольника	1	Библиотека ЦОК	Проводить

			https://m.edsoo.ru/88672f38	построения с помощью циркуля и линейки с использование теоремы Фалеса и теоремы о пропорциональных отрезках
16	Трапеция, её средняя линия	1	Библиотека ЦОК https://m.edsoo.ru/88672358	Проводить построения с помощью циркуля и линейки с использование теоремы Фалеса и теоремы о пропорциональных отрезках
17	Трапеция, её средняя линия	1	Библиотека ЦОК https://m.edsoo.ru/88673064	Проводить построения с помощью циркуля и линейки с использование теоремы Фалеса и теоремы о пропорциональных отрезках
18	Пропорциональные отрезки	1	Библиотека ЦОК https://m.edsoo.ru/88673794	Проводить построения с помощью циркуля и

				линейки с использование теоремы Фалеса и теоремы о пропорциональных отрезках
19	Пропорциональные отрезки	1	Библиотека ЦОК https://m.edsoo.ru/88673794	Проводить построения с помощью циркуля и линейки с использование теоремы Фалеса и теоремы о пропорциональных отрезках
20	Центр масс в треугольнике	1	Библиотека ЦОК https://m.edsoo.ru/886738fc	Проводить доказательство того, что медианы треугольника пересекаются в одной точке, находить связь с центром масс, находить отношение, в котором медианы делятся точкой их пересечения.
21	Подобные треугольники	1	Библиотека ЦОК https://m.edsoo.ru/88673a78	Находить подобные треугольники на

				готовых чертежах с указанием соответствующих признаков подобия.
22	Три признака подобия треугольников	1	Библиотека ЦОК https://m.edsoo.ru/88673bae	Находить подобные треугольники на готовых чертежах с указанием соответствующих признаков подобия. Доказывать три признака подобия треугольников.
23	Три признака подобия треугольников	1	Библиотека ЦОК https://m.edsoo.ru/88673d52	Решать задачи на подобные треугольники с помощью самостоятельного построения чертежей и нахождения подобных треугольников. Доказывать три признака подобия треугольников.
24	Три признака подобия треугольников	1	Библиотека ЦОК https://m.edsoo.ru/8867400e	Решать задачи на подобные треугольники с помощью

				самостоятельного построения чертежей и нахождения подобных треугольников.
25	Три признака подобия треугольников	1		Решать задачи на подобные треугольники с помощью самостоятельного построения чертежей и нахождения подобных треугольников.
26	Применение подобия при решении практических задач	1		Применять полученные знания при решении геометрических и практических задач. Знакомиться с историей развития геометрии.
27	Контрольная работа по теме "Подобные треугольники"	1	Библиотека ЦОК https://m.edsoo.ru/8867445a	Применять полученные знания при решении геометрических и практических задач. Знакомиться с историей развития

				геометрии.
28	Свойства площадей геометрических фигур	1	Библиотека ЦОК https://m.edsoo.ru/886745fe	Овладевать первичными представлениями об общей теории площади (меры), формулировать свойства площади, выяснять их наглядный смысл.
29	Формулы для площади треугольника, параллелограмма	1	Библиотека ЦОК https://m.edsoo.ru/88674860	Выводить формулы площади параллелограмма, треугольника, трапеции из формулы площади прямоугольника (квадрата).
30	Формулы для площади треугольника, параллелограмма	1	Библиотека ЦОК https://m.edsoo.ru/88674a22	Выводить формулы площади параллелограмма, треугольника, трапеции из формулы площади прямоугольника (квадрата).
31	Формулы для площади треугольника, параллелограмма	1	Библиотека ЦОК https://m.edsoo.ru/88674a22	Выводить формулы площади параллелограмма,

				треугольника, трапеции из формулы площади прямоугольника (квадрата).
32	Формулы для площади треугольника, параллелограмма	1	Библиотека ЦОК https://m.edsoo.ru/88675288	Выводить формулы площади параллелограмма, треугольника, трапеции из формулы площади прямоугольника (квадрата).
33	Формулы для площади треугольника, параллелограмма	1	Библиотека ЦОК https://m.edsoo.ru/8867542c	Выводить формулы площади параллелограмма, треугольника, трапеции из формулы площади прямоугольника (квадрата).
34	Вычисление площадей сложных фигур	1	Библиотека ЦОК https://m.edsoo.ru/88674e78	Вычислять площади различных многоугольных фигур.
35	Площади фигур на клетчатой бумаге	1	Библиотека ЦОК https://m.edsoo.ru/8867473e	Находить площади фигур, изображённых на клетчатой бумаге,

				использовать разбиение фигуры на части и достраивание.
36	Площади подобных фигур	1		Находить площади подобных фигур.
37	Площади подобных фигур	1		Находить площади подобных фигур.
38	Задачи с практическим содержанием	1	Библиотека ЦОК https://m.edsoo.ru/88675558	Решать задачи на площадь с практическим содержанием
39	Задачи с практическим содержанием	1	Библиотека ЦОК https://m.edsoo.ru/88675684	Решать задачи на площадь с практическим содержанием
40	Решение задач с помощью метода вспомогательной площади	1	Библиотека ЦОК https://m.edsoo.ru/88674f90	Разбирать примеры использования вспомогательной площади для решения геометрических задач.
41	Контрольная работа по теме "Площадь"	1	Библиотека ЦОК https://m.edsoo.ru/8867579c	
42	Теорема Пифагора и её применение	1	Библиотека ЦОК https://m.edsoo.ru/88675918	Доказывать теорему Пифагора, использовать её в

				практических вычислениях.
43	Теорема Пифагора и её применение	1	Библиотека ЦОК https://m.edsoo.ru/88675918	Доказывать теорему Пифагора, использовать её в практических вычислениях.
44	Теорема Пифагора и её применение	1	Библиотека ЦОК https://m.edsoo.ru/88675abc	Доказывать теорему Пифагора, использовать её в практических вычислениях.
45	Теорема Пифагора и её применение	1		Доказывать теорему Пифагора, использовать её в практических вычислениях.
46	Теорема Пифагора и её применение	1		Доказывать теорему Пифагора, использовать её в практических вычислениях.
47	Определение тригонометрических функций острого угла прямоугольного треугольника, тригонометрические соотношения в прямоугольном треугольнике	1	Библиотека ЦОК https://m.edsoo.ru/88675d32	Формулировать определения тригонометрических функций острого угла, проверять их корректность.

48	Основное тригонометрическое тождество	1	Библиотека ЦОК https://m.edsoo.ru/88675f44	Выводить тригонометрические соотношения в прямоугольном треугольнике
49	Основное тригонометрическое тождество	1		Исследовать соотношения между сторонами в прямоугольных треугольниках с углами в 45° и 45° ; 30° и 60° .
50	Основное тригонометрическое тождество	1		Использовать формулы приведения и основное тригонометрическое тождество для нахождения соотношений между тригонометрическим и функциями различных острых углов. Применять полученные знания и умения при решении практических задач.
51	Контрольная работа по теме "Теорема Пифагора и начала тригонометрии"	1	Библиотека ЦОК https://m.edsoo.ru/8a1407e8	Применять полученные знания и умения при решении

				практических задач. Знакомиться с историей развития геометрии.
52	Вписанные и центральные углы, угол между касательной и хордой	1	Библиотека ЦОК https://m.edsoo.ru/8a1415b2	Формулировать основные определения, связанные с углами в круге (вписанный угол, центральный угол).
53	Вписанные и центральные углы, угол между касательной и хордой	1	Библиотека ЦОК https://m.edsoo.ru/8a141940	Находить вписанные углы, опирающиеся на одну дугу, вычислять углы с помощью теоремы о вписанных углах, теоремы о вписанном четырёхугольнике, теоремы о центральном угле.
54	Вписанные и центральные углы, угол между касательной и хордой	1	Библиотека ЦОК https://m.edsoo.ru/8a141b34	Находить вписанные углы, опирающиеся на одну дугу, вычислять углы с помощью теоремы о вписанных углах, теоремы о

				вписанном четырёхугольнике, теоремы о центральном угле.
55	Углы между хордами и секущими	1		вычислять углы с помощью теоремы о вписанных углах, теоремы о вписанном четырёхугольнике, теоремы о центральном угле.
56	Углы между хордами и секущими	1		вычислять углы с помощью теоремы о вписанных углах, теоремы о вписанном четырёхугольнике, теоремы о центральном угле.
57	Вписанные и описанные четырёхугольники, их признаки и свойства	1	Библиотека ЦОК https://m.edsoo.ru/8a140f86	Исследовать, в том числе с помощью цифровых ресурсов, вписанные и описанные четырёхугольники, выводить их свойства и признаки.
58	Вписанные и описанные	1	Библиотека ЦОК	Исследовать, в том

	четырёхугольники, их признаки и свойства		https://m.edsoo.ru/8a1416d4	числе с помощью цифровых ресурсов, вписанные и описанные четырёхугольники, выводить их свойства и признаки.
59	Вписанные и описанные четырёхугольники, их признаки и свойства	1	Библиотека ЦОК https://m.edsoo.ru/8a1416d4	Исследовать, в том числе с помощью цифровых ресурсов, вписанные и описанные четырёхугольники, выводить их свойства и признаки.
60	Применение свойств вписанных и описанных четырёхугольников при решении геометрических задач	1		Исследовать, в том числе с помощью цифровых ресурсов, вписанные и описанные четырёхугольники, выводить их свойства и признаки.
61	Применение свойств вписанных и описанных четырёхугольников при решении геометрических задач	1		Исследовать, в том числе с помощью цифровых ресурсов, вписанные и описанные четырёхугольники,

				выводить их свойства и признаки.
62	Взаимное расположение двух окружностей, общие касательные	1	Библиотека ЦОК https://m.edsoo.ru/8a1410a8	Исследовать, в том числе с помощью цифровых ресурсов, вписанные и описанные четырёхугольники, выводить их свойства и признаки. Использовать эти свойства и признаки при решении задач.
63	Касание окружностей	1	Библиотека ЦОК https://m.edsoo.ru/8a1410a8	Исследовать, в том числе с помощью цифровых ресурсов, вписанные и описанные четырёхугольники, выводить их свойства и признаки. Использовать эти свойства и признаки при решении задач.
64	Контрольная работа по теме "Углы в окружности. Вписанные и описанные четырёхугольники"	1	Библиотека ЦОК https://m.edsoo.ru/8a141c88	Использовать эти свойства и признаки при решении задач
65	Повторение основных понятий и методов курсов 7 и 8 классов, обобщение знаний	1	Библиотека ЦОК https://m.edsoo.ru/8a141ddc	Решать задачи на повторение,

				иллюстрирующие связи между различными частями курса
66	Повторение основных понятий и методов курсов 7 и 8 классов, обобщение знаний	1	Библиотека ЦОК https://m.edsoo.ru/8a141efe	Решать задачи на повторение, иллюстрирующие связи между различными частями курса
67	Итоговая контрольная работа	1	Библиотека ЦОК https://m.edsoo.ru/8a142368	Решать задачи на повторение, иллюстрирующие связи между различными частями курса
68	Повторение основных понятий и методов курсов 7 и 8 классов, обобщение знаний	1	Библиотека ЦОК https://m.edsoo.ru/8a1420ac	Решать задачи на повторение, иллюстрирующие связи между различными частями курса
ОБЩЕЕ КОЛИЧЕСТВО ЧАСОВ ПО ПРОГРАММЕ		68		

9 КЛАСС

№ п/п	Тема урока	Количество часов	Электронные цифровые образовательные ресурсы	Основные виды деятельности
1	Определение тригонометрических функций углов от 0° до 180°	1	Библиотека ЦОК https://m.edsoo.ru/8a1424bc	Формулировать определения тригонометрических функций тупых и прямых углов
2	Формулы приведения	1		Формулировать определения тригонометрических функций тупых и прямых углов.
3	Теорема косинусов	1	Библиотека ЦОК https://m.edsoo.ru/8a14336c	Выводить теорему косинусов и теорему синусов (с радиусом описанной окружности).
4	Теорема косинусов	1		Выводить теорему косинусов и теорему синусов (с радиусом описанной окружности).
5	Теорема косинусов	1	Библиотека ЦОК https://m.edsoo.ru/8a142d5e	Выводить теорему косинусов и теорему

				синусов (с радиусом описанной окружности).
6	Теорема синусов	1	Библиотека ЦОК https://m.edsoo.ru/8a142e8a	Выводить теорему косинусов и теорему синусов (с радиусом описанной окружности).
7	Теорема синусов	1		Выводить теорему косинусов и теорему синусов (с радиусом описанной окружности).
8	Теорема синусов	1		Выводить теорему косинусов и теорему синусов (с радиусом описанной окружности).
9	Нахождение длин сторон и величин углов треугольников	1	Библиотека ЦОК https://m.edsoo.ru/8a1430b0	Выводить формулы для вычисления площадей с использованием теорем тригонометрии (формула площади треугольника через две стороны и угол между ними, формула площади

				четырёхугольника через его диагонали и угол между ними).
10	Решение треугольников	1	Библиотека ЦОК https://m.edsoo.ru/8a142ac0	Выводить формулы для вычисления площадей с использованием теорем тригонометрии (формула площади треугольника через две стороны и угол между ними, формула площади четырёхугольника через его диагонали и угол между ними).
11	Решение треугольников	1	Библиотека ЦОК https://m.edsoo.ru/8a142ac0	Выводить формулы для вычисления площадей с использованием теорем тригонометрии (формула площади треугольника через две стороны и угол между ними, формула площади четырёхугольника

				через его диагонали и угол между ними).
12	Решение треугольников	1	Библиотека ЦОК https://m.edsoo.ru/8a142ac0	Решать треугольники.
13	Решение треугольников	1	Библиотека ЦОК https://m.edsoo.ru/8a142ac0	Решать треугольники.
14	Практическое применение теорем синусов и косинусов	1	Библиотека ЦОК https://m.edsoo.ru/8a142c3c	Решать практические задачи, сводящиеся к нахождению различных элементов треугольника
15	Практическое применение теорем синусов и косинусов	1		Решать практические задачи, сводящиеся к нахождению различных элементов треугольника
16	Контрольная работа по теме "Решение треугольников"	1	Библиотека ЦОК https://m.edsoo.ru/8a14392a	Решать практические задачи, сводящиеся к нахождению различных элементов треугольника
17	Понятие о преобразовании подобия	1	Библиотека ЦОК https://m.edsoo.ru/8a143ab0	Осваивать понятие преобразования подобия.
18	Соответственные элементы подобных	1	Библиотека ЦОК	Исследовать

	фигур		https://m.edsoo.ru/8a143de4	отношение линейных элементов фигур при преобразовании подобия.
19	Соответственные элементы подобных фигур	1		Исследовать отношение линейных элементов фигур при преобразовании подобия.
20	Теорема о произведении отрезков хорд, теорема о произведении отрезков секущих, теорема о квадрате касательной	1	Библиотека ЦОК https://m.edsoo.ru/8a14406e	Выводить метрические соотношения между отрезками хорд, секущих и касательных с использованием вписанных углов и подобных треугольников.
21	Теорема о произведении отрезков хорд, теорема о произведении отрезков секущих, теорема о квадрате касательной	1	Библиотека ЦОК https://m.edsoo.ru/8a1441a4	Выводить метрические соотношения между отрезками хорд, секущих и касательных с использованием вписанных углов и

				подобных треугольников.
22	Теорема о произведении отрезков хорд, теорема о произведении отрезков секущих, теорема о квадрате касательной	1	Библиотека ЦОК https://m.edsoo.ru/8a1442da	Выводить метрические соотношения между отрезками хорд, секущих и касательных с использованием вписанных углов и подобных треугольников.
23	Применение теорем в решении геометрических задач	1	Библиотека ЦОК https://m.edsoo.ru/8a143f06	Находить примеры подобия в окружающей действительности.
24	Применение теорем в решении геометрических задач	1	Библиотека ЦОК https://m.edsoo.ru/8a1443fc	Решать геометрические задачи и задачи из реальной жизни с использованием подобных треугольников
25	Применение теорем в решении геометрических задач	1	Библиотека ЦОК https://m.edsoo.ru/8a144578	Решать геометрические задачи и задачи из реальной жизни с использованием подобных

				треугольников
26	Контрольная работа по теме "Преобразование подобия. Метрические соотношения в окружности"	1	Библиотека ЦОК https://m.edsoo.ru/8a1447a8	Решать геометрические задачи и задачи из реальной жизни с использованием подобных треугольников
27	Определение векторов. Физический и геометрический смысл векторов	1	Библиотека ЦОК https://m.edsoo.ru/8a144960	Использовать векторы как направленные отрезки, исследовать геометрический (перемещение) и физический (сила) смыслы векторов.
28	Сложение и вычитание векторов, умножение вектора на число	1	Библиотека ЦОК https://m.edsoo.ru/8a144a8c	Знать определения суммы и разности векторов, умножения вектора на число, исследовать геометрический и физический смыслы этих операций.
29	Сложение и вычитание векторов, умножение вектора на число	1	Библиотека ЦОК https://m.edsoo.ru/8a144d52	Знать определения суммы и разности векторов, умножения вектора на число, исследовать

				геометрический и физический смыслы этих операций.
30	Сложение и вычитание векторов, умножение вектора на число	1		Знать определения суммы и разности векторов, умножения вектора на число, исследовать геометрический и физический смыслы этих операций.
31	Разложение вектора по двум неколлинеарным векторам	1		Решать геометрические задачи с использованием векторов. Раскладывать вектор по двум неколлинеарным векторам.
32	Координаты вектора	1	Библиотека ЦОК https://m.edsoo.ru/8a144fbe	Раскладывать вектор по двум неколлинеарным векторам.
33	Скалярное произведение векторов, его применение для нахождения длин и углов	1	Библиотека ЦОК https://m.edsoo.ru/8a14539c	Использовать скалярное произведение векторов, выводить его основные

				свойства.
34	Скалярное произведение векторов, его применение для нахождения длин и углов	1	Библиотека ЦОК https://m.edsoo.ru/8a14550e	Использовать скалярное произведение векторов, выводить его основные свойства.
35	Решение задач с помощью векторов	1	Библиотека ЦОК https://m.edsoo.ru/8a144c3a	Вычислять сумму, разность и скалярное произведение векторов в координатах. Применять скалярное произведение для нахождения длин и углов.
36	Решение задач с помощью векторов	1	Библиотека ЦОК https://m.edsoo.ru/8a1458c4	Вычислять сумму, разность и скалярное произведение векторов в координатах. Применять скалярное произведение для нахождения длин и углов.
37	Применение векторов для решения задач физики	1		Вычислять сумму, разность и скалярное

				произведение векторов в координатах. Применять скалярное произведение для нахождения длин и углов.
38	Контрольная работа по теме "Векторы"	1	Библиотека ЦОК https://m.edsoo.ru/8a145b08	Решать геометрические задачи с использованием векторов.
39	Декартовы координаты точек на плоскости	1		Осваивать понятие прямоугольной системы координат, декартовых координат точки.
40	Уравнение прямой	1	Библиотека ЦОК https://m.edsoo.ru/8a145c48	Выводить уравнение прямой.
41	Уравнение прямой	1		Выводить уравнение прямой. Использовать свойства углового коэффициента прямой при решении задач, для определения расположения

				прямой.
42	Уравнение окружности	1	Библиотека ЦОК https://m.edsoo.ru/8a14635a	Выводить уравнение прямой и окружности. Выделять полный квадрат для нахождения центра и радиуса окружности по её уравнению.
43	Координаты точек пересечения окружности и прямой	1	Библиотека ЦОК https://m.edsoo.ru/8a146620	Решать задачи на нахождение точек пересечения прямых и окружностей с помощью метода координат.
44	Метод координат при решении геометрических задач, практических задач	1		Применять координаты при решении геометрических и практических задач, для построения математических моделей реальных задач («метод координат»).
45	Метод координат при решении геометрических задач, практических задач	1		Применять координаты при решении геометрических и

				практических задач, для построения математических моделей реальных задач («метод координат»).
46	Метод координат при решении геометрических задач, практических задач	1		Пользоваться для построения и исследований цифровыми ресурсами. Знакомиться с историей развития геометрии
47	Контрольная работа по теме "Декартовы координаты на плоскости"	1	Библиотека ЦОК https://m.edsoo.ru/8a146e0e	Применять координаты при решении геометрических и практических задач, для построения математических моделей реальных задач
48	Правильные многоугольники, вычисление их элементов	1	Библиотека ЦОК https://m.edsoo.ru/8a146fda	Формулировать определение правильных многоугольников, находить их элементы.

49	Число п. Длина окружности	1	Библиотека ЦОК https://m.edsoo.ru/8a1472c8	Пользоваться понятием длины окружности, введённым с помощью правильных многоугольников, определять число p , длину дуги и радианную меру угла.
50	Число п. Длина окружности	1	Библиотека ЦОК https://m.edsoo.ru/8a14714c	Пользоваться понятием длины окружности, введённым с помощью правильных многоугольников, определять число p , длину дуги и радианную меру угла.
51	Длина дуги окружности	1		Пользоваться понятием длины окружности, введённым с помощью правильных многоугольников,

				определять число r , длину дуги и радианную меру угла.
52	Радианная мера угла	1	Библиотека ЦОК https://m.edsoo.ru/8a14714c	Проводить переход от радианной меры угла к градусной и наоборот.
53	Площадь круга, сектора, сегмента	1	Библиотека ЦОК https://m.edsoo.ru/8a147426	Определять площадь круга. Вычислять площади фигур, включающих элементы окружности (круга).
54	Площадь круга, сектора, сегмента	1	Библиотека ЦОК https://m.edsoo.ru/8a147750	Определять площадь круга. Вычислять площади фигур, включающих элементы окружности (круга).
55	Площадь круга, сектора, сегмента	1	Библиотека ЦОК https://m.edsoo.ru/8a147750	Определять площадь круга. Выводить формулы (в градусной и радианной мере) для длин дуг, площадей секторов и сегментов. Находить площади в задачах

				реальной жизни.
56	Понятие о движении плоскости	1	Библиотека ЦОК https://m.edsoo.ru/8a147c82	Разбирать примеры, иллюстрирующие понятия движения.
57	Параллельный перенос, поворот	1	Библиотека ЦОК https://m.edsoo.ru/8a147f16	Формулировать определения параллельного переноса, поворота и осевой симметрии.
58	Параллельный перенос, поворот	1	Библиотека ЦОК https://m.edsoo.ru/8a147f16	Формулировать определения параллельного переноса, поворота и осевой симметрии. Выводить их свойства, находить неподвижные точки.
59	Параллельный перенос, поворот	1		Формулировать определения параллельного переноса, поворота и осевой симметрии.
60	Параллельный перенос, поворот	1		Применять параллельный перенос и симметрию при решении геометрических задач (разбирать

				примеры). Использовать для построения и исследований цифровые ресурсы.
61	Применение движений при решении задач	1	Библиотека ЦОК https://m.edsoo.ru/8a1480e2	Применять параллельный перенос и симметрию при решении геометрических задач (разбирать примеры). Использовать для построения и исследований цифровые ресурсы.
62	Контрольная работа по темам "Правильные многоугольники. Окружность. Движения плоскости"	1		Применять параллельный перенос и симметрию при решении геометрических задач .
63	Повторение, обобщение, систематизация знаний. Измерение геометрических величин. Треугольники	1	Библиотека ЦОК https://m.edsoo.ru/8a148524	Оперировать понятиями: фигура, точка, прямая, угол, многоугольник, равнобедренный и

				равносторонний
64	Повторение, обобщение, систематизация знаний. Параллельные и перпендикулярные прямые	1	Библиотека ЦОК https://m.edsoo.ru/8a148650	Оперировать понятиями: фигура, точка, прямая, угол, многоугольник, равнобедренный и равносторонний
65	Повторение, обобщение, систематизация знаний. Окружность и круг. Геометрические построения. Углы в окружности	1		Оперировать понятиями: фигура, точка, прямая, угол, многоугольник, равнобедренный и равносторонний
66	Повторение, обобщение, систематизация знаний. Вписанные и описанные окружности многоугольников	1		Использовать формулы: периметра и площади многоугольников, длины окружности и площади круга, объёма прямоугольного параллелепипеда.
67	Итоговая контрольная работа	1	Библиотека ЦОК https://m.edsoo.ru/8a148920	Решать задачи на повторение основных понятий, иллюстрацию связей между различными частями курса.
68	Повторение, обобщение, систематизация	1		Выбирать метод для

	знаний			решения задачи. Решать задачи из повседневной жизни
ОБЩЕЕ КОЛИЧЕСТВО ЧАСОВ ПО ПРОГРАММЕ		68		

УЧЕБНО-МЕТОДИЧЕСКОЕ ОБЕСПЕЧЕНИЕ ОБРАЗОВАТЕЛЬНОГО ПРОЦЕССА ОБЯЗАТЕЛЬНЫЕ УЧЕБНЫЕ МАТЕРИАЛЫ ДЛЯ УЧЕНИКА

- Геометрия, 7-9 классы/ Атанасян Л.С., Бутузов В.Ф., Кадомцев С.Б. и другие, Акционерное общество «Издательство «Просвещение»

- рабочие тетради/Глазков Ю.А., Егупова М.В., АО "Издательство "Просвещение",2023

МЕТОДИЧЕСКИЕ МАТЕРИАЛЫ ДЛЯ УЧИТЕЛЯ

Учебник для 7—9 классов входит в систему учебников по геометрии для 7—11 классов авторов Л. С. Атанасян, В. Ф.Бутузов, С. Б. Кадомцев, Э. Г. Позняк, И. И. Юдина.

В учебно-методический комплект «Геометрия» для 7 — 9 классов этих авторов входят:

- программа;

- учебник «Математика. Геометрия. 7—9 классы» в бумажной и электронной формах;

- методическое пособие для учителя/ Глазков Ю.А.,АО "Издательство "Просвещение", 2023;

- «Задачи по геометрии. 7 — 9 классы»/Зив Б. Г., Мейлер В. М., Баханский А. Г, АО "Издательство "Просвещение", 2023;

- рабочие тетради/ Глазков Ю.А., Егупова М.В., АО "Издательство "Просвещение",2023;

- дидактические материалы/ Зив Б. Г., Мейлер В. М., АО "Издательство "Просвещение", 2023;

- самостоятельные и контрольные работы/ Иченская М. А., АО "Издательство "Просвещение",2023;

- тематические тесты/ Мищенко Т. М., Блинков А. Д., АО "Издательство "Просвещение", 2023.

ЦИФРОВЫЕ ОБРАЗОВАТЕЛЬНЫЕ РЕСУРСЫ И РЕСУРСЫ СЕТИ ИНТЕРНЕТ

1 Единая коллекция цифровых образовательных ресурсов
(school-collection.edu.ru);

2 Российская электронная школа (resh.edu.ru);

3 infourok.ru,

4 uchi.ru,

- 5 math5-vpr.sdangia.ru.
- 6 <https://oge.sdangia.ru>.
- 7 <https://vpr.sdangia.ru>.
- 8 <https://uztest.ru>.
- 9 <https://www.yaklass.ru>
- 10 Сферум. Информационно-коммуникационная платформа (<https://sferum.ru/>).

Оценочные материалы по предмету «Математика».

Критерии и нормы оценки знаний обучающихся:

Оценка письменных контрольных работ обучающихся по математике.

Ответ оценивается отметкой «5», если:

- работа выполнена полностью;
- в логических рассуждениях и обосновании решения нет пробелов и ошибок;
- в решении нет математических ошибок (возможна одна неточность, описка, которая не является следствием незнания или непонимания учебного материала).

Отметка «4» ставится в следующих случаях:

- работа выполнена полностью, но обоснования шагов решения недостаточны (если умение обосновывать рассуждения не являлось специальным объектом проверки);
- допущены одна ошибка или есть два - три недочёта в выкладках, рисунках, чертежах или графиках (если эти виды работ не являлись специальным объектом проверки).

Отметка «3» ставится, если:

- допущено более одной ошибки или более двух - трех недочетов в выкладках, чертежах или графиках, но обучающийся обладает обязательными умениями по проверяемой теме.

Отметка «2» ставится, если:

- допущены существенные ошибки, показавшие, что обучающийся не обладает обязательными умениями по данной теме в полной мере.

Оценка устных ответов обучающихся по математике

Ответ оценивается отметкой «5», если ученик:

- полно раскрыл содержание материала в объеме, предусмотренном программой и учебником;
- изложил материал грамотным языком, точно используя математическую терминологию и символику, в определенной логической последовательности;
- правильно выполнил рисунки, чертежи, графики, сопутствующие ответу;
- показал умение иллюстрировать теорию конкретными примерами, применять ее в новой ситуации при выполнении практического задания;
- продемонстрировал знание теории ранее изученных сопутствующих тем, сформированность и устойчивость используемых при ответе умений и навыков;
- отвечал самостоятельно, без наводящих вопросов учителя;
- возможны одна - две неточности при освещении второстепенных вопросов или в выкладках, которые ученик легко исправил после замечания учителя.

Ответ оценивается отметкой «4», если удовлетворяет в основном требованиям на оценку «5», но при этом имеет один из недостатков:

- в изложении допущены небольшие пробелы, не исказившее математическое содержание ответа;
- допущены один - два недочета при освещении основного содержания ответа, исправленные после замечания учителя;
- допущены ошибка или более двух недочетов при освещении второстепенных вопросов или в выкладках, легко исправленные после замечания учителя.

Отметка «3» ставится в следующих случаях:

- неполно раскрыто содержание материала (содержание изложено фрагментарно, не всегда последовательно), но показано общее понимание вопроса и продемонстрированы

умения, достаточные для усвоения программного материала (определены «Требованиями к математической подготовке обучающихся» в настоящей программе по математике);

- имелись затруднения или допущены ошибки в определении математической терминологии, чертежах, выкладках, исправленные после нескольких наводящих вопросов учителя;

- ученик не справился с применением теории в новой ситуации при выполнении практического задания, но выполнил задания обязательного уровня сложности по данной теме;

при достаточном знании теоретического материала выявлена недостаточная сформированность основных умений и навыков.

Отметка «2» ставится в следующих случаях:

- не раскрыто основное содержание учебного материала;
- обнаружено незнание учеником большей или наиболее важной части учебного материала;
- допущены ошибки в определении понятий, при использовании математической терминологии, в рисунках, чертежах или графиках, в выкладках, которые не исправлены после нескольких наводящих вопросов учителя.

Общая классификация ошибок.

При оценке знаний, умений и навыков обучающихся следует учитывать все ошибки (грубые и негрубые) и недочёты.

Грубыми считаются ошибки:

- незнание определения основных понятий, законов, правил, основных положений теории, незнание формул, общепринятых символов обозначений величин, единиц их измерения;
- незнание наименований единиц измерения;
- неумение выделить в ответе главное;
- неумение применять знания, алгоритмы для решения задач;
- неумение делать выводы и обобщения;
- неумение читать и строить графики;
- неумение пользоваться первоисточниками, учебником и справочниками;
- потеря корня или сохранение постороннего корня;
- отбрасывание без объяснений одного из них;
- равнозначные им ошибки;
- вычислительные ошибки, если они не являются опиской;
- логические ошибки.

К негрубым ошибкам следует отнести:

- неточность формулировок, определений, понятий, теорий, вызванная неполнотой охвата основных признаков определяемого понятия или заменой одного – двух из этих признаков второстепенными;
- неточность графика;
- нерациональный метод решения задачи или недостаточно продуманный план ответа (нарушение логики, подмена отдельных основных вопросов второстепенными);
- нерациональные методы работы со справочной и другой литературой;
- неумение решать задачи, выполнять задания в общем виде.

Недочётами являются:

- нерациональные приемы вычислений и преобразований;
- небрежное выполнение записей, чертежей, схем, графиков.

Оценка комбинированных письменных работ по математике.

Письменная работа по математике, подлежащая оцениванию, может состоять из задач и примеров (комбинированная работа).

В таком случае преподаватель сначала даёт предварительную оценку каждой части работы, а затем общую, руководствуясь следующим:

а) если обе части работы оценены одинаково, то эта оценка должна быть общей для всей работы в целом;

б) если оценки частей разнятся на один балл, например даны оценки «5» и «4» или «4» и «3» и т. п., то за работу в целом, как правило, ставится балл, оценивающий основную часть работы;

в) если одна часть работы оценена баллом «5», а другая — баллом «3», то преподаватель может оценить такую работу в целом баллом «4» при условии, что оценка «5» поставлена за основную часть работы;

г) если одна из частей работы оценена баллом «5» или «4», а другая — баллом «2» или «1», то преподаватель может оценить всю работу баллом «3» при условии, что высшая из двух данных оценок поставлена за основную часть работы.

Примечание. Основной считается та часть работы, которая включает больший по объёму или наиболее важный по значению материал по изучаемым темам программы.

Оценка текущих письменных работ.

При оценке повседневных обучающих работ по математике учитель руководствуется указанными нормами оценок, но учитывает степень самостоятельности выполнения работ обучающимися.

Обучающие письменные работы, выполненные обучающимися вполне самостоятельно с применением ранее изученных и хорошо закрепленных знаний, оцениваются так же, как и контрольные работы. Обучающие письменные работы, выполненные вполне самостоятельно, но только что изученные и недостаточно закрепленные правила, могут оцениваться менее строго.

Письменные работы, выполненные в классе с предварительным разбором их под руководством учителя, оцениваются более строго.

Домашние письменные работы оцениваются так же, как классная работа обучающего характера. Критерии оценивания тестов, математических диктантов.

Отметка «5» 91 % – 100 % задания выполнено верно.

Отметка «4» 61 % - 90 % задания выполнено верно.

Отметка «3» 31 % - 60 % задания выполнено верно.

Отметка «2» 0% - 30% задания выполнено верно.

Критерии оценивания работ по материалам ОГЭ.

Количество баллов	Отметка
От 0 до 7 баллов	«2»
От 8 до 15 баллов	«3»
От 16 до 22 баллов	«4»
От 23 до 38 баллов	«5»

Примерные критерии оценок в зависимости от объема выполненной работы

Объем выполненной работы	Менее 60 %	От 60 % до 75 %	От 76% до 89%	От 90% до 100%
Оценка	2	3	4	5

Оценка выполнения тестовых заданий

Для выставления отметок за тестирование можно воспользоваться таблицей пересчёта:

Число заданий в тесте	ОЦЕНКИ			
	«2»	«3»	«4»	«5»
5	менее 3	3	4	5
6	3 и менее	4	5	6
7	4 и менее	5	6	7
8	5 и менее	6	7	8
9	5 и менее	6	7,8	9
10	6 и менее	7	8	9,10
11	6 и менее	7,8	9	10,11
12	7 и менее	8	9,10	11,12
13	8 и менее	9,10	11,12	13
14	9 и менее	10,11	12,13	14
15-16	9 и менее	10	11,12,13	14,15,16
18	11 и менее	12,13	14,14,16	17,18
24	15 и менее	16,17,18	19,20,21	22,23,24
30	19 и менее	20,21,22,23	24,25,26,27	28,29,30

Виды и формы контроля при обучении геометрии в 7-9 классах:

- текущий контроль в форме контрольных работ, рассчитанных на 40 минут;
- тесты и самостоятельные работы на 15 – 20 минут с дифференцированным оцениванием;
- самостоятельные работы;
- устный опрос, выполнение практических работ;

промежуточный и итоговый контроль в форме зачёта, контрольной работы.

Примерные контрольные работы в сборнике:

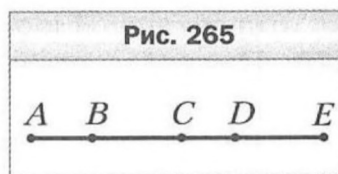
1 Самостоятельные и контрольные работы/ Иченская М. А., АО "Издательство "Просвещение",2023;

Контрольно - измерительные материалы

7 класс

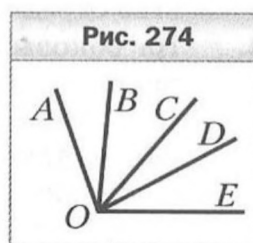
Тема. Простейшие геометрические фигуры **К-1 В-1** и их свойства

1. Луч OD проходит между сторонами угла AOB . Найдите величину угла DOB , если $\angle AOB = 87^\circ$, $\angle AOD = 38^\circ$.
2. Один из углов, образованных при пересечении двух прямых, равен 63° . Найдите градусные меры остальных углов.
3. Один из смежных углов на 52° больше другого. Найдите эти углы.
4. На рисунке 265 $AB = CD$, $AC = CE$. Докажите, что $BC = DE$.
5. Углы ABC и CBD — смежные, луч BM — биссектриса угла ABC , угол ABM в 2 раза больше угла CBD . Найдите углы ABC и CBD .
6. Точки A , B и C лежат на одной прямой, $AB = 15$ см, отрезок AC в 4 раза больше отрезка BC . Найдите отрезок AC .



Тема. Простейшие геометрические фигуры **К-1 В-2** и их свойства

1. Точка M принадлежит отрезку AB . Найдите длину отрезка MB , если $AB = 12,3$ см, $AM = 7,4$ см.
2. Один из углов, образованных при пересечении двух прямых, равен 124° . Найдите градусные меры остальных углов.
3. Один из смежных углов на 28° меньше другого. Найдите эти углы.
4. На рисунке 274 $\angle AOB = \angle COD$, $\angle AOC = \angle COE$. Докажите, что $\angle BOC = \angle DOE$.
5. Углы DEF и MEF — смежные, луч EK — биссектриса угла DEF , угол KEF в 4 раза меньше угла MEF . Найдите углы DEF и MEF .
6. Точки M , K и P лежат на одной прямой, $MP = 24$ см, отрезок KP в 5 раз меньше отрезка MK . Найдите отрезок MK .



Тема. Треугольники

К-2 В-1

- Докажите равенство треугольников MBF и DBF (рис. 266), если $\angle MBF = \angle DBF$, $\angle MFB = \angle DFB$.
- Найдите стороны равнобедренного треугольника, если его периметр равен 84 см, а боковая сторона на 18 см больше основания.
- На рисунке 267 $DP = PE$, $DK = KE$. Докажите равенство углов KDM и KEM .
- На боковых сторонах AB и BC равнобедренного треугольника ABC отметили соответственно точки E и F такие, что $AE = CF$. Докажите, что $\angle ACE = \angle CAF$.
- Серединный перпендикуляр стороны AB треугольника ABC пересекает его сторону AC в точке D . Найдите периметр треугольника BDC , если $AC = 8$ см, $BC = 6$ см.

Рис. 266

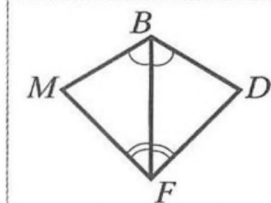
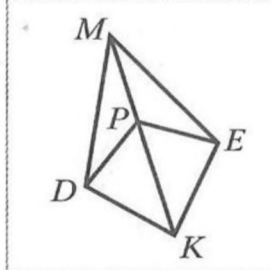


Рис. 267



Тема. Треугольники

К-2 В-2

- Докажите равенство треугольников ABD и CDB (рис. 275), если $\angle ABD = \angle CDB$ и $AB = CD$.
- Найдите стороны равнобедренного треугольника, если его периметр равен 76 см, а основание на 14 см меньше боковой стороны.
- На рисунке 276 $\angle ABE = \angle CBE$, $\angle AEB = \angle CEB$. Докажите равенство отрезков AD и CD .
- На боковых сторонах AB и BC равнобедренного треугольника ABC отметили соответственно точки M и K так, что $\angle BAK = \angle BCM$. Докажите, что $BM = CK$.
- Серединный перпендикуляр стороны AC треугольника ABC пересекает его сторону AB в точке K . Найдите сторону AB треугольника ABC , если $BC = 7$ см, а периметр треугольника BKC равен 23 см.

Рис. 275

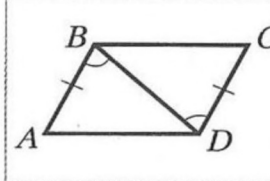
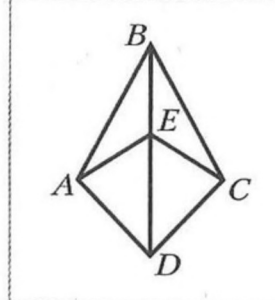


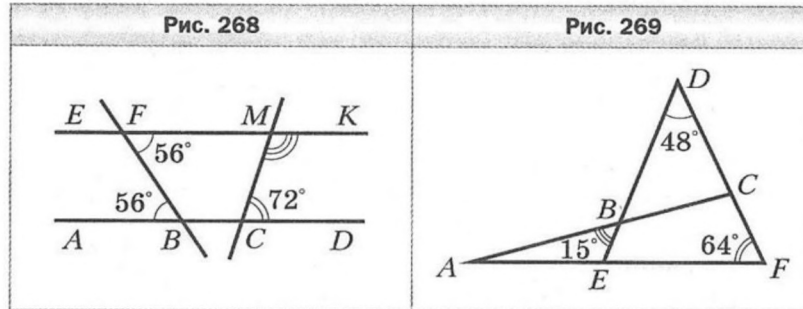
Рис. 276



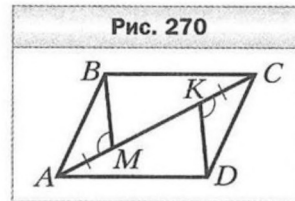
Тема. Параллельные прямые.
Сумма углов треугольника

К-3 В-1

1. Угол при вершине равнобедренного треугольника равен 56° . Найдите углы при основании этого треугольника.
2. Найдите градусную меру угла $СМК$ (рис. 268).
3. Какова градусная мера угла A , изображённого на рисунке 269?



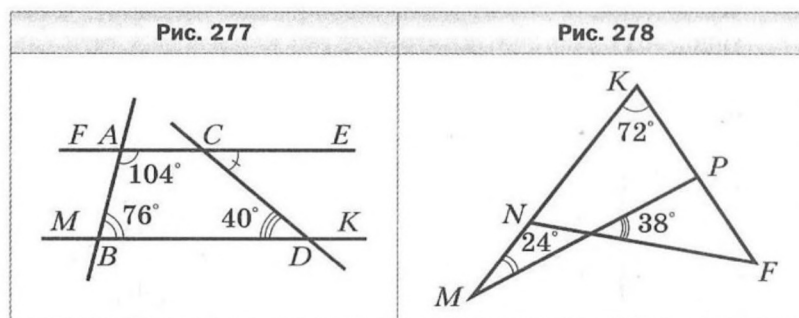
4. В треугольнике ABC известно, что $\angle C = 90^\circ$, $\angle B = 30^\circ$. На катете BC отметили точку D такую, что $\angle ADC = 60^\circ$. Найдите катет BC , если $CD = 5$ см.
5. Известно, что $AB \parallel CD$, $AM = CK$, $\angle AMB = \angle CKD$ (рис. 270). Докажите, что $BC \parallel AD$.



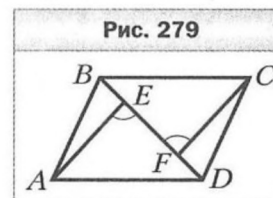
Тема. Параллельные прямые.
Сумма углов треугольника

К-3 В-2

1. Угол при основании равнобедренного треугольника равен 57° . Найдите угол при вершине этого треугольника.
2. Найдите градусную меру угла DCE (рис. 277).
3. Какова градусная мера угла F , изображённого на рисунке 278?



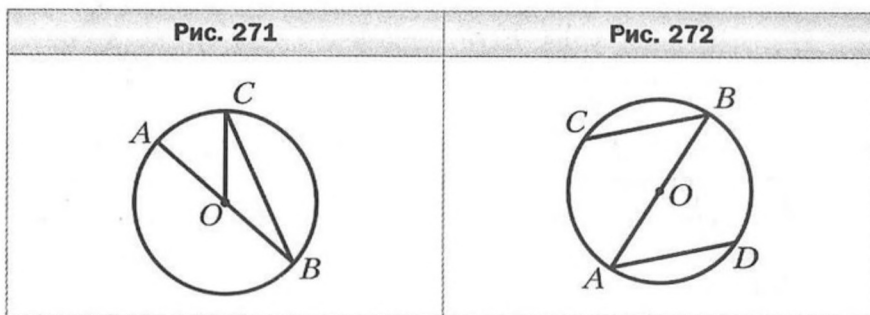
4. В треугольнике ABC известно, что $\angle C = 90^\circ$, $\angle A = 30^\circ$, отрезок BM — биссектриса треугольника. Найдите катет AC , если $BM = 6$ см.
5. Известно, что $BC \parallel AD$, $BF = DE$, $\angle AED = \angle CFB$ (рис. 279). Докажите, что $AB \parallel CD$.



Тема. Окружность и круг.
Геометрические построения

К-4 В-1

1. На рисунке 271 точка O — центр окружности, $\angle AOC = 50^\circ$. Найдите угол BCO .
2. К окружности с центром O провели касательную AB (B — точка касания). Найдите радиус окружности, если $AB = 8$ см и $\angle AOB = 45^\circ$.
3. Через концы диаметра AB окружности с центром O проведены параллельные хорды BC и AD (рис. 272). Докажите, что $AD = BC$.

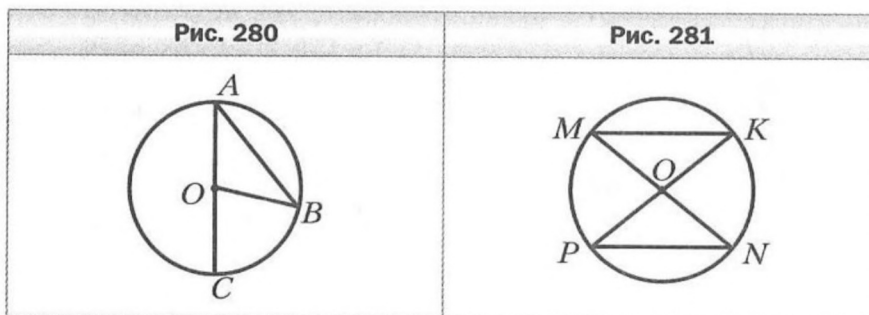


4. Постройте равнобедренный треугольник по медиане, проведённой к основанию, и углу между этой медианой и боковой стороной треугольника.
5. На данной окружности постройте точку, находящуюся на данном расстоянии от данной прямой. Сколько решений может иметь задача?

Тема. Окружность и круг.
Геометрические построения

К-4 В-2

1. На рисунке 280 точка O — центр окружности, $\angle ABO = 40^\circ$. Найдите угол BOC .
2. К окружности с центром O провели касательную CD (D — точка касания). Найдите радиус окружности, если $CO = 16$ см и $\angle COD = 60^\circ$.
3. В окружности с центром O провели диаметры MN и PK (рис. 281). Докажите, что $MK \parallel PN$.

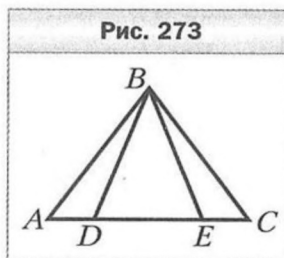


4. Постройте равнобедренный треугольник по боковой стороне и биссектрисе, проведённой к основанию.
5. На данной окружности постройте точку, равноудалённую от двух пересекающихся прямых. Сколько решений может иметь задача?

Тема. Обобщение и систематизация знаний
 учащихся за курс 7 класса

К-5 В-1

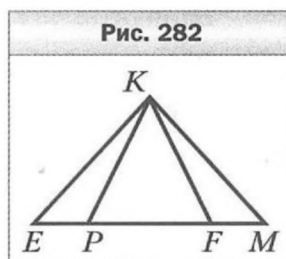
- В треугольнике MPK известно, что $\angle M = 64^\circ$, $\angle P = 46^\circ$.
 Укажите верное неравенство:
 1) $MK > PK$; 3) $MK > PM$;
 2) $PK > PM$; 4) $PM > MK$.
- Докажите, что треугольник ABC равнобедренный (рис. 273), если $AD = EC$ и $\angle BDE = \angle BED$.
- В треугольнике DEF известно, что $\angle EDF = 68^\circ$, $\angle DEF = 44^\circ$. Биссектриса угла EDF пересекает сторону EF в точке K . Найдите угол DKF .
- Боковая сторона равнобедренного треугольника делится точкой касания вписанной окружности в отношении $3 : 2$, считая от вершины угла при основании треугольника. Найдите стороны треугольника, если его периметр равен 64 см.
- Отрезок BM — медиана равнобедренного треугольника ABC ($AB = BC$). На стороне AB отметили точку K такую, что $KM \parallel BC$. Докажите, что $BK = KM$.



Тема. Обобщение и систематизация знаний
 учащихся за курс 7 класса

К-5 В-1

- В треугольнике DEF известно, что $\angle D = 52^\circ$, $\angle E = 112^\circ$.
 Укажите верное неравенство:
 1) $DF < DE$; 3) $EF < DE$;
 2) $DF < EF$; 4) $DE < EF$.
- Докажите, что треугольник KPF равнобедренный (рис. 282), если $KM = KE$ и $\angle MKF = \angle EKP$.
- В треугольнике ABC известно, что $\angle BAC = 56^\circ$. Биссектриса угла BAC пересекает сторону BC в точке D , $\angle ADC = 104^\circ$. Найдите угол ABC .
- Боковая сторона равнобедренного треугольника делится точкой касания вписанной окружности в отношении $5 : 8$, считая от вершины угла при основании треугольника. Найдите стороны треугольника, если его периметр равен 72 см.
- Отрезок AK — биссектриса треугольника ABC . На стороне AB отметили точку M такую, что $AM = MK$. Докажите, что $MK \parallel AC$.



Контрольная работа № 1

B-1

Тема. Параллелограмм и его виды

1. Одна из сторон параллелограмма на 6 см больше другой, а его периметр равен 48 см. Найдите стороны параллелограмма.
2. В прямоугольнике $ABCD$ диагонали пересекаются в точке O , $AB = 9$ см, $AC = 16$ см. Найдите периметр треугольника COD .
3. Один из углов ромба равен 72° . Найдите углы, которые образует сторона ромба с его диагоналями.
4. На диагонали BD параллелограмма $ABCD$ отметили точки E и F так, что $\angle BCE = \angle DAF$ (точка E лежит между точками B и F). Докажите, что $CE = AF$.
5. В параллелограмме $ABCD$ биссектриса угла A пересекает сторону BC в точке E . Отрезок BE больше отрезка EC в 3 раза. Найдите периметр параллелограмма, если $BC = 12$ см.
6. Прямая проходит через середину диагонали AC параллелограмма $ABCD$ и пересекает стороны BC и AD в точках M и K соответственно. Докажите, что четырёхугольник $AMCK$ — параллелограмм.

Контрольная работа № 1

B-2

Тема. Параллелограмм и его виды

1. Одна из сторон параллелограмма в 5 раз больше другой, а его периметр равен 36 см. Найдите стороны параллелограмма.
2. В прямоугольнике $ABCD$ диагонали пересекаются в точке O , $AD = 14$ см, $BD = 18$ см. Найдите периметр треугольника BOC .
3. Сторона ромба образует с одной из его диагоналей угол 68° . Найдите углы ромба.
4. На диагонали AC параллелограмма $ABCD$ отметили точки P и K так, что $AP = CK$ (точка P лежит между точками A и K). Докажите, что $\angle ADP = \angle CBK$.
5. В параллелограмме $ABCD$ биссектриса угла D пересекает сторону AB в точке P . Отрезок AP меньше отрезка BP в 6 раз. Найдите периметр параллелограмма, если $AB = 14$ см.
6. Прямая, пересекающая диагональ BD параллелограмма $ABCD$ в точке E , пересекает его стороны AB и CD в точках M и K соответственно, причём $ME = KE$. Докажите, что четырёхугольник $BKDM$ — параллелограмм.

Контрольная работа № 2

B-1

Тема. Средняя линия треугольника. Трапеция. Вписанные и описанные четырёхугольники

1. Найдите периметр треугольника, если его средние линии равны 6 см, 9 см и 10 см.
2. Основания трапеции относятся как 3 : 5, а средняя линия равна 32 см. Найдите основания трапеции.
3. Боковые стороны трапеции равны 7 см и 12 см. Чему равен периметр трапеции, если в неё можно вписать окружность?
4. Основания равнобокой трапеции равны 3 см и 7 см, а диагональ делит тупой угол трапеции пополам. Найдите периметр трапеции.
5. Найдите углы четырёхугольника $ABCD$, вписанного в окружность, если $\angle ADB = 43^\circ$, $\angle ACD = 37^\circ$, $\angle CAD = 22^\circ$.
6. Высота равнобокой трапеции равна 9 см, а её диагонали перпендикулярны. Найдите периметр трапеции, если её боковая сторона равна 12 см.

Контрольная работа № 2

B-2

Тема. Средняя линия треугольника. Трапеция. Вписанные и описанные четырёхугольники

1. Стороны треугольника равны 10 см, 12 см и 14 см. Найдите периметр треугольника, вершины которого — середины сторон данного треугольника.
2. Основания трапеции относятся как 4 : 7, а средняя линия равна 44 см. Найдите основания трапеции.
3. Основания трапеции равны 6 см и 12 см. Чему равен периметр трапеции, если в неё можно вписать окружность?
4. Основания равнобокой трапеции равны 8 см и 10 см, а диагональ делит острый угол трапеции пополам. Найдите периметр трапеции.
5. Найдите углы четырёхугольника $ABCD$, вписанного в окружность, если $\angle CBD = 48^\circ$, $\angle ACD = 34^\circ$, $\angle BDC = 64^\circ$.
6. Высота равнобокой трапеции равна 10 см, а её диагонали перпендикулярны. Найдите боковую сторону трапеции, если её периметр равен 48 см.

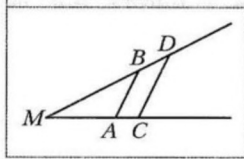
Контрольная работа № 3

B-1

Тема. Теорема Фалеса. Подобие треугольников

1. На рисунке 124 $AB \parallel CD$, $MA = 12$ см, $AC = 4$ см, $BD = 6$ см. Найдите отрезок MB .
2. Треугольники ABC и $A_1B_1C_1$ подобны, причём сторонам AB и BC соответствуют стороны A_1B_1 и B_1C_1 . Найдите неизвестные стороны этих треугольников, если $AB = 8$ см, $BC = 10$ см, $A_1B_1 = 4$ см, $A_1C_1 = 6$ см.
3. Отрезок AK — биссектриса треугольника ABC , $AB = 12$ см, $BK = 8$ см, $CK = 18$ см. Найдите сторону AC .
4. На стороне BC треугольника ABC отметили точку M так, что $BM : MC = 2 : 9$. Через точку M провели прямую, которая параллельна стороне AC треугольника и пересекает сторону AB в точке K . Найдите сторону AC , если $MK = 18$ см.
5. В трапеции $ABCD$ с основаниями AD и BC диагонали пересекаются в точке O , $BC : AD = 3 : 5$, $BD = 24$ см. Найдите отрезки BO и OD .
6. Через точку M , находящуюся на расстоянии 15 см от центра окружности радиусом 17 см, проведена хорда, которая делится точкой M на отрезки, длины которых относятся как $1 : 4$. Найдите длину этой хорды.

Рис. 124



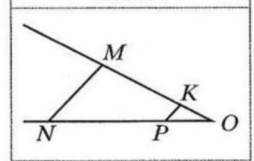
Контрольная работа № 3

B-2

Тема. Теорема Фалеса. Подобие треугольников

1. На рисунке 125 $MN \parallel KP$, $NP = 20$ см, $PO = 8$ см, $MK = 15$ см. Найдите отрезок KO .
2. Треугольники ABC и $A_1B_1C_1$ подобны, причём сторонам AB и BC соответствуют стороны A_1B_1 и B_1C_1 . Найдите неизвестные стороны этих треугольников, если $BC = 5$ см, $AB = 6$ см, $B_1C_1 = 15$ см, $A_1C_1 = 21$ см.
3. Отрезок CD — биссектриса треугольника ABC , $AC = 12$ см, $BC = 18$ см, $AD = 10$ см. Найдите отрезок BD .
4. На стороне AB треугольника ABC отметили точку E так, что $AE : BE = 3 : 4$. Через точку E провели прямую, которая параллельна стороне AC треугольника и пересекает сторону BC в точке F . Найдите отрезок EF , если $AC = 28$ см.
5. В трапеции $ABCD$ с основаниями AD и BC диагонали пересекаются в точке O , $BO : OD = 2 : 3$, $AC = 25$ см. Найдите отрезки AO и OC .
6. Через точку P , лежащую внутри окружности, проведена хорда, которая делится точкой P на отрезки, длины которых равны 4 см и 5 см. Найдите расстояние от точки P до центра окружности, если её радиус равен 6 см.

Рис. 125



Контрольная работа № 4

B-1

Тема. Метрические соотношения в прямоугольном треугольнике. Теорема Пифагора

1. Высота прямоугольного треугольника, проведённая к гипотенузе, делит её на отрезки длиной 9 см и 16 см. Найдите меньший катет треугольника.
2. В прямоугольном треугольнике гипотенуза равна 13 см, а один из катетов — 12 см. Найдите периметр треугольника.
3. Диагонали ромба равны 12 см и 16 см. Найдите сторону ромба.
4. Высота BM равнобедренного треугольника ABC ($AB = AC$) делит сторону AC на отрезки $AM = 15$ см и $CM = 2$ см. Найдите основание треугольника ABC .
5. Из точки к прямой проведены две наклонные, проекции которых на прямую равны 9 см и 16 см. Найдите расстояние от точки до прямой, если одна из наклонных на 5 см больше другой.
6. Окружность, вписанная в прямоугольную трапецию, делит точкой касания большую боковую сторону на отрезки длиной 4 см и 25 см. Найдите высоту трапеции.

Контрольная работа № 4

B-2

Тема. Метрические соотношения в прямоугольном треугольнике. Теорема Пифагора

1. Катет прямоугольного треугольника равен 30 см, а его проекция на гипотенузу — 18 см. Найдите гипотенузу треугольника.
2. В прямоугольном треугольнике катеты равны 8 см и 15 см. Найдите периметр треугольника.
3. Сторона ромба равна 10 см, а одна из диагоналей — 16 см. Найдите вторую диагональ ромба.
4. Высота AK остроугольного равнобедренного треугольника ABC ($AB = BC$) равна 12 см, а $KB = 9$ см. Найдите основание треугольника ABC .
5. Из точки к прямой проведены две наклонные, длины которых равны 13 см и 15 см. Найдите расстояние от точки до прямой, если разность проекций наклонных на эту прямую равна 4 см.
6. Окружность, вписанная в равнобокую трапецию, делит точкой касания боковую сторону на отрезки длиной 2 см и 32 см. Найдите высоту трапеции.

Контрольная работа № 5

B-1

Тема. Тригонометрические функции острого угла прямоугольного треугольника.

Решение прямоугольных треугольников

1. В треугольнике ABC известно, что $\angle C = 90^\circ$, $AB = 25$ см, $BC = 20$ см. Найдите:
1) $\cos B$; 2) $\operatorname{tg} A$.
2. В прямоугольном треугольнике ABC ($\angle C = 90^\circ$) известно, что $AB = 15$ см, $\sin A = 0,6$. Найдите катет BC .
3. Найдите значение выражения $\sin^2 16^\circ + \cos^2 16^\circ - \sin^2 60^\circ$.
4. Основание равнобедренного треугольника равно 12 см, а высота, проведённая к основанию, — 8 см. Найдите синус, косинус, тангенс и котангенс угла при основании треугольника.
5. Высота BD треугольника ABC делит сторону AC на отрезки AD и CD , $BC = 6$ см, $\angle A = 30^\circ$, $\angle CBD = 45^\circ$. Найдите отрезок AD .
6. Диагональ равнобокой трапеции перпендикулярна боковой стороне и образует с основанием трапеции угол α . Найдите высоту трапеции, если радиус окружности, описанной около трапеции, равен R .

Контрольная работа № 5

B-2

Тема. Тригонометрические функции острого угла прямоугольного треугольника.

Решение прямоугольных треугольников

1. В треугольнике ABC известно, что $\angle C = 90^\circ$, $AC = 8$ см, $BC = 6$ см. Найдите:
1) $\operatorname{ctg} B$; 2) $\sin A$.
2. В прямоугольном треугольнике ABC ($\angle C = 90^\circ$) известно, что $AC = 12$ см, $\operatorname{tg} A = 0,8$. Найдите катет BC .
3. Найдите значение выражения $\cos^2 30^\circ + \sin^2 52^\circ + \cos^2 52^\circ$.
4. Основание равнобедренного треугольника равно 10 см, а боковая сторона — 13 см. Найдите синус, косинус, тангенс и котангенс угла между боковой стороной треугольника и высотой, проведённой к его основанию.
5. Высота BD треугольника ABC делит сторону AC на отрезки AD и CD , $AB = 12$ см, $\angle A = 60^\circ$, $\angle CBD = 30^\circ$. Найдите отрезок CD .
6. Диагональ равнобокой трапеции перпендикулярна боковой стороне, а угол между боковой стороной и большим основанием трапеции равен α . Найдите радиус окружности, описанной около трапеции, если её высота равна h .

9 класс

Контрольная работа № 1

B-1

Тема. Решение треугольников

1. Две стороны треугольника равны 4 см и 8 см, а угол между ними — 60° . Найдите третью сторону треугольника и его площадь.
2. Два угла треугольника равны 30° и 135° , а сторона, лежащая против меньшего из них, равна 4 см. Найдите сторону треугольника, лежащую против большего из данных углов.
3. Определите, остроугольным, прямоугольным или тупоугольным является треугольник со сторонами 4 см, 5 см и 7 см.
4. Одна сторона треугольника на 2 см больше другой, а угол между ними равен 120° . Найдите периметр треугольника, если его третья сторона равна 7 см.
5. Найдите радиус окружности, вписанной в треугольник со сторонами 7 см, 15 см и 20 см.
6. Стороны треугольника равны 7 см, 11 см и 12 см. Найдите медиану треугольника, проведённую к его большей стороне.

Контрольная работа № 1

B-2

Тема. Решение треугольников

1. Две стороны треугольника равны 6 см и 4 см, а угол между ними — 120° . Найдите третью сторону треугольника и его площадь.
2. Два угла треугольника равны 60° и 45° , а сторона, лежащая против большего из них, равна $3\sqrt{2}$ см. Найдите сторону треугольника, лежащую против меньшего из данных углов.
3. Определите, остроугольным, прямоугольным или тупоугольным является треугольник со сторонами 3 см, 8 см и 10 см.
4. Одна сторона треугольника на 6 см меньше другой, а угол между ними равен 60° . Найдите периметр треугольника, если его третья сторона равна 14 см.
5. Найдите радиус окружности, описанной около треугольника со сторонами 17 см, 25 см и 28 см.
6. Две стороны треугольника равны 7 см и 9 см, а медиана, проведённая к третьей стороне, — 4 см. Найдите неизвестную сторону треугольника.

Контрольная работа № 2 **В-1**
Тема. Правильные многоугольники

1. Найдите углы правильного 60-угольника.
2. Найдите длину окружности, описанной около квадрата со стороной 8 см.
3. Сторона правильного треугольника, вписанного в окружность, равна $5\sqrt{3}$ см. Найдите сторону правильного шестиугольника, описанного около этой окружности.
4. Радиус окружности, описанной около правильного многоугольника, равен $2\sqrt{3}$ см, а радиус окружности, вписанной в него, — 3 см. Найдите: 1) сторону многоугольника; 2) количество сторон многоугольника.
5. Сторона треугольника равна $4\sqrt{2}$ см, а прилежащие к ней углы равны 80° и 55° . Найдите длины дуг, на которые делят окружность, описанную около треугольника, его вершины.
6. В правильном шестиугольнике $ABCDEF$ соединили середины сторон AB , CD и EF . Найдите сторону правильного треугольника, образовавшегося при этом, если $AB = a$.

Контрольная работа № 2 **В-2**
Тема. Правильные многоугольники

1. Найдите углы правильного 72-угольника.
2. Найдите площадь круга, вписанного в правильный треугольник со стороной 6 см.
3. В окружность вписан правильный шестиугольник со стороной 4 см. Найдите сторону квадрата, описанного около этой окружности.
4. Радиус окружности, описанной около правильного многоугольника, равен $4\sqrt{2}$ см, а сторона многоугольника — 8 см. Найдите: 1) радиус окружности, вписанной в многоугольник; 2) количество сторон многоугольника.
5. Сторона треугольника равна $6\sqrt{3}$ см, а прилежащие к ней углы равны 50° и 70° . Найдите длины дуг, на которые делят окружность, описанную около треугольника, его вершины.
6. Найдите диагональ AD правильного восьмиугольника $ABCDEFKP$, если $AB = a$.

Контрольная работа № 3 **В-1**
Тема. Декартовы координаты

1. Найдите длину отрезка AB и координаты его середины, если $A(-3; 2)$ и $B(1; -5)$.
2. Составьте уравнение окружности, центр которой находится в точке $M(1; -3)$ и которая проходит через точку $K(-4; 2)$.
3. Найдите координаты вершины D параллелограмма $ABCD$, если $A(-2; 3)$, $B(4; 5)$, $C(2; 1)$.
4. Составьте уравнение прямой, проходящей через точки $K(3; -2)$ и $P(5; 2)$.
5. Найдите координаты точки, принадлежащей оси абсцисс и равноудалённой от точек $A(-2; 3)$ и $B(6; 1)$.
6. Составьте уравнение прямой, которая параллельна прямой $y = -3x + 10$ и проходит через центр окружности $x^2 + y^2 + 2x - 4y + 1 = 0$.

Контрольная работа № 3 **В-2**
Тема. Декартовы координаты

1. Найдите длину отрезка DF и координаты его середины, если $D(4; -5)$ и $F(-3; -1)$.
2. Составьте уравнение окружности, которая проходит через точку $P(-2; -5)$ и центр которой находится в точке $E(1; -3)$.
3. Найдите координаты вершины C параллелограмма $ABCD$, если $A(-3; -2)$, $B(4; 7)$, $D(-2; -5)$.
4. Составьте уравнение прямой, проходящей через точки $M(-2; -2)$ и $N(2; 10)$.
5. Найдите координаты точки, принадлежащей оси ординат и равноудалённой от точек $C(2; -1)$ и $D(-4; 5)$.
6. Составьте уравнение прямой, которая параллельна прямой $y = 5x - 9$ и проходит через центр окружности $x_2^2 + y_2^2 - 6x + 2y + 6 = 0$.

Контрольная работа № 4 **В-1**
Тема. Векторы

1. Даны точки $A(-2; 3)$, $B(1; -1)$, $C(2; 4)$. Найдите:
 - 1) координаты векторов \vec{AB} и \vec{CA} ;
 - 2) модули векторов \vec{AB} и \vec{CA} ;
 - 3) координаты вектора $\vec{MN} = 3\vec{AB} - 2\vec{CA}$;
 - 4) скалярное произведение векторов \vec{AB} и \vec{CA} ;
 - 5) косинус угла между векторами \vec{AB} и \vec{CA} .
2. Начертите треугольник ABC . Постройте вектор:
 - 1) $\vec{AC} + \vec{CB}$;
 - 2) $\vec{BC} - \vec{BA}$;
 - 3) $\vec{AB} + \vec{AC}$.
3. Даны векторы $\vec{a}(2; 6)$ и $\vec{b}(-3; k)$. При каком значении k векторы \vec{a} и \vec{b} : 1) коллинеарны; 2) перпендикулярны?
4. На сторонах AB и BC параллелограмма $ABCD$ отметили соответственно точки F и E так, что $AF : FB = 1 : 4$, $BE : EC = 1 : 3$. Выразите вектор \vec{EF} через векторы $\vec{AB} = \vec{a}$ и $\vec{AD} = \vec{b}$.
5. Найдите косинус угла между векторами $\vec{a} = \vec{n} + 2\vec{m}$ и $\vec{b} = 3\vec{n} - \vec{m}$, если $\vec{m} \perp \vec{n}$, $|\vec{m}| = |\vec{n}| = 1$.

Контрольная работа № 4 **В-2**
Тема. Векторы

1. Даны точки $M(-2; -4)$, $P(4; 4)$, $K(-1; 3)$. Найдите:
 - 1) координаты векторов \vec{MK} и \vec{PM} ;
 - 2) модули векторов \vec{MK} и \vec{PM} ;
 - 3) координаты вектора $\vec{EF} = 2\vec{MK} - 3\vec{PM}$;
 - 4) скалярное произведение векторов \vec{MK} и \vec{PM} ;
 - 5) косинус угла между векторами \vec{MK} и \vec{PM} .
2. Начертите треугольник ABC . Постройте вектор:
 - 1) $\vec{BA} + \vec{AC}$;
 - 2) $\vec{CA} - \vec{CB}$;
 - 3) $\vec{BC} + \vec{BA}$.
3. Даны векторы $\vec{m}(p; 4)$ и $\vec{n}(20; -10)$. При каком значении p векторы \vec{m} и \vec{n} : 1) коллинеарны; 2) перпендикулярны?
4. На сторонах CD и AD параллелограмма $ABCD$ отметили соответственно точки M и K так, что $CM : MD = 2 : 5$, $AK : KD = 1 : 2$. Выразите вектор \vec{MK} через векторы $\vec{AB} = \vec{a}$ и $\vec{AD} = \vec{b}$.
5. Найдите косинус угла между векторами $\vec{a} = 3\vec{k} - \vec{p}$ и $\vec{b} = \vec{k} - 3\vec{p}$, если $\vec{k} \perp \vec{p}$, $|\vec{k}| = |\vec{p}| = 1$.

Контрольная работа № 5

В-1

Тема. Геометрические преобразования

- Найдите координаты точек, симметричных точкам $A(-3; 4)$ и $B(0; 5)$ относительно: 1) оси абсцисс; 2) оси ординат; 3) начала координат.
- Начертите треугольник ABC . Постройте образ треугольника ABC : 1) при параллельном переносе на вектор \vec{BC} ; 2) при симметрии относительно точки A ; 3) при симметрии относительно прямой AB .
- Точка $A_1(8; y)$ является образом точки $A(x; -3)$ при гомотетии с центром $H(2; 1)$ и коэффициентом $k = -4$. Найдите x и y .
- Продолжения боковых сторон AB и CD трапеции $ABCD$ пересекаются в точке M . Найдите площадь трапеции, если $BC : AD = 2 : 5$, а площадь треугольника BMC равна 12 см^2 .
- Из точек A и C , лежащих в одной полуплоскости относительно прямой m , опущены перпендикуляры AA_1 и CC_1 на эту прямую. $AA_1 = 7 \text{ см}$, $CC_1 = 1 \text{ см}$, $A_1C_1 = 6 \text{ см}$. Какое наименьшее значение может принимать сумма $AX + XC$, где X — точка, принадлежащая прямой m ?

Контрольная работа № 5

В-2

Тема. Геометрические преобразования

- Найдите координаты точек, симметричных точкам $C(2; -1)$ и $D(-4; 0)$ относительно: 1) оси ординат; 2) оси абсцисс; 3) начала координат.
- Начертите треугольник DEF . Постройте образ треугольника DEF : 1) при параллельном переносе на вектор \vec{DE} ; 2) при симметрии относительно точки F ; 3) при симметрии относительно прямой DF .
- Точка $P_1(x; 5)$ является образом точки $B(-7; y)$ при гомотетии с центром $H(3; -1)$ и коэффициентом $k = -\frac{1}{2}$. Найдите x и y .
- Продолжения боковых сторон AB и CD трапеции $ABCD$ пересекаются в точке M . Найдите площадь треугольника AMD , если $BC : AD = 3 : 4$, а площадь трапеции равна 14 см^2 .
- Из точек D и E , лежащих в одной полуплоскости относительно прямой m , опущены перпендикуляры DD_1 и EE_1 на эту прямую. $DD_1 = 4 \text{ см}$, $EE_1 = 8 \text{ см}$, $D_1E_1 = 5 \text{ см}$. Какое наименьшее значение может принимать сумма $DX + XE$, где X — точка, принадлежащая прямой m ?

Контрольная работа № 6

В-1

Тема. Обобщение и систематизация знаний учащихся

- Две стороны параллелограмма равны 6 см и 8 см , а угол между ними — 60° . Найдите: 1) большую диагональ параллелограмма; 2) площадь параллелограмма.
- В треугольнике MKP $MP = 7\sqrt{2} \text{ см}$, $KP = 7\sqrt{3} \text{ см}$, $\angle K = 45^\circ$. Найдите угол M .
- Около правильного треугольника ABC со стороной 18 см описана окружность с центром O . 1) Найдите площадь сектора, содержащего дугу BAC . 2) Укажите, какой отрезок является образом стороны AB при повороте вокруг центра O по часовой стрелке на угол 120° ?
- Докажите, что четырёхугольник $ABCD$ с вершинами в точках $A(1; -1)$, $B(-4; 4)$, $C(-2; 6)$ и $D(3; 1)$ является прямоугольником.
- Найдите уравнение окружности, являющейся образом окружности $(x+3)^2 + (y-9)^2 = 16$ при параллельном переносе на вектор $\vec{a}(-5; 4)$.
- Найдите косинус угла между векторами \vec{m} и \vec{n} , если векторы $\vec{a} = 2\vec{m} + 3\vec{n}$ и $\vec{b} = 6\vec{m} - \vec{n}$ перпендикулярны, $|\vec{m}| = 2$, $|\vec{n}| = 6$.

Контрольная работа № 6

В-2

Тема. Обобщение и систематизация знаний учащихся

- Две стороны параллелограмма равны 3 см и 5 см , а угол между ними — 30° . Найдите: 1) большую диагональ параллелограмма; 2) площадь параллелограмма.
- В треугольнике ABC $AC = 6\sqrt{2} \text{ см}$, $BC = 6 \text{ см}$, $\angle A = 30^\circ$. Найдите угол B .
- Около правильного шестиугольника $ABCDEF$ со стороной 8 см описана окружность с центром O . 1) Найдите площадь сектора, содержащего дугу ACE . 2) Укажите, какой отрезок является образом стороны CD при повороте вокруг центра O против часовой стрелки на угол 120° ?
- Докажите, что четырёхугольник $ABCD$ с вершинами в точках $A(3; 5)$, $B(-1; -1)$, $C(-7; -5)$ и $D(-3; 1)$ является ромбом.
- Найдите уравнение окружности, являющейся образом окружности $(x-2)^2 + (y+6)^2 = 36$ при параллельном переносе на вектор $\vec{a}(-4; 1)$.
- Найдите косинус угла между векторами \vec{a} и \vec{b} , если векторы $\vec{m} = 3\vec{a} - \vec{b}$ и $\vec{n} = \vec{a} + 5\vec{b}$ перпендикулярны, $|\vec{a}| = 5$, $|\vec{b}| = 3$.

Для проведения основного государственного экзамена по математике используется перечень (кодификатор) проверяемых требований к результатам освоения основной образовательной программы основного общего образования и элементов содержания.

Таблица 1

Проверяемые на ОГЭ по математике требования
к результатам освоения основной образовательной программы
основного общего образования

Код проверяемого требования	Проверяемые требования к предметным результатам освоения основной образовательной программы основного общего образования на основе ФГОС
1	Умение оперировать понятиями: множество, подмножество, операции над множествами; умение оперировать понятиями: граф, связный граф, дерево, цикл, применять их при решении задач; умение использовать графическое представление множеств для описания реальных процессов и явлений, при решении задач из других учебных предметов
2	Умение оперировать понятиями: определение, аксиома, теорема, доказательство; умение распознавать истинные и ложные высказывания, приводить примеры и контрпримеры, строить высказывания и отрицания высказываний
3	Умение оперировать понятиями: натуральное число, простое и составное число, делимость натуральных чисел, признаки делимости, целое число, модуль числа, обыкновенная дробь и десятичная дробь, стандартный вид числа, рациональное число, иррациональное число, арифметический квадратный корень; умение выполнять действия с числами, сравнивать и упорядочивать числа, представлять числа на координатной прямой, округлять числа; умение делать прикидку и оценку результата вычислений
4	Умение оперировать понятиями: степень с целым показателем, арифметический квадратный корень, многочлен, алгебраическая дробь, тождество; знакомство с корнем натуральной степени больше единицы; умение выполнять расчеты по формулам, преобразования целых, дробно-рациональных выражений и выражений с корнями, разложение многочлена на множители, в том числе с использованием формул разности квадратов и квадрата суммы и разности
5	Умение оперировать понятиями: числовое равенство, уравнение с одной переменной, числовое неравенство, неравенство с переменной; умение решать линейные и квадратные уравнения, дробно-рациональные уравнения с одной переменной, системы двух линейных уравнений, линейные неравенства и их системы, квадратные и дробно-рациональные неравенства с одной переменной, в том числе при решении задач из других предметов и практических задач; умение использовать координатную прямую и координатную плоскость для изображения решений уравнений, неравенств и систем
6	Умение оперировать понятиями: функция, график функции, нули функции, промежутки знакопостоянства, промежутки возрастания, убывания, наибольшее и наименьшее значения функции; умение оперировать

	понятиями: прямая пропорциональность, линейная функция, квадратичная функция, обратная пропорциональность, парабола, гипербола; умение строить графики функций, использовать графики для определения свойств процессов и зависимостей, для решения задач из других учебных предметов и реальной жизни; умение выражать формулами зависимости между величинами
7	Умение оперировать понятиями: последовательность, арифметическая и геометрическая прогрессии; умение использовать свойства последовательностей, формулы суммы и общего члена при решении задач, в том числе задач из других учебных предметов и реальной жизни
8	Умение решать задачи разных типов (в том числе на проценты, доли и части, движение, работу, цену товаров и стоимость покупок и услуг, налоги, задачи из области управления личными и семейными финансами); умение составлять выражения, уравнения, неравенства и системы по условию задачи, исследовать полученное решение и оценивать правдоподобность полученных результатов
9	Умение оперировать понятиями: фигура, точка, отрезок, прямая, луч, ломаная, угол, многоугольник, треугольник, равнобедренный и равносторонний треугольники, прямоугольный треугольник, медиана, биссектриса и высота треугольника, четырехугольник, параллелограмм, ромб, прямоугольник, квадрат, трапеция; окружность, круг, касательная; знакомство с пространственными фигурами; умение решать задачи, в том числе из повседневной жизни, нахождение геометрических величин с применением изученных свойств фигур и фактов
10	Умение оперировать понятиями: равенство фигур, равенство треугольников; параллельность и перпендикулярность прямых, угол между прямыми, перпендикуляр, наклонная, проекция, подобие фигур, подобные треугольники, симметрия относительно точки и прямой; умение распознавать равенство, симметрию и подобие фигур, параллельность и перпендикулярность прямых в окружающем мире
11	Умение оперировать понятиями: длина, расстояние, угол (величина угла, синус и косинус угла треугольника), площадь; умение оценивать размеры предметов и объектов в окружающем мире; умение применять формулы периметра и площади многоугольников, длины окружности и площади круга, объема прямоугольного параллелепипеда; умение применять признаки равенства треугольников, теорему о сумме углов треугольника, теорему Пифагора, тригонометрические соотношения для вычисления длин, расстояний, площадей
12	Умение изображать плоские фигуры и их комбинации, пространственные фигуры от руки, с помощью чертежных инструментов и электронных средств по текстовому или символьному описанию
13	Умение оперировать понятиями: прямоугольная система координат; координаты точки, вектор, сумма векторов, произведение вектора на число, скалярное произведение векторов; умение использовать векторы и координаты для представления данных и решения задач, в том числе из других учебных предметов и реальной жизни
14	Умение оперировать понятиями: столбиковые и круговые диаграммы,

	таблицы, среднее арифметическое, медиана, наибольшее и наименьшее значения, размах числового набора; умение извлекать, интерпретировать и преобразовывать информацию, представленную в таблицах и на диаграммах, отражающую свойства и характеристики реальных процессов и явлений; умение распознавать изменчивые величины в окружающем мире
15	Умение оперировать понятиями: случайный опыт (случайный эксперимент), элементарное событие (элементарный исход) случайного опыта, случайное событие, вероятность события; умение находить вероятности случайных событий в опытах с равновероятными элементарными событиями; умение решать задачи методом организованного перебора и с использованием правила умножения; умение оценивать вероятности реальных событий и явлений, понимать роль практически достоверных и маловероятных событий в окружающем мире и в жизни; знакомство с понятием независимых событий; знакомство с законом больших чисел и его ролью в массовых явлениях
16	Умение выбирать подходящий изученный метод для решения задачи, приводить примеры математических закономерностей в природе и жизни, распознавать проявление законов математики в искусстве, описывать отдельные выдающиеся результаты, полученные в ходе развития математики как науки, приводить примеры математических открытий и их авторов в отечественной и всемирной истории

Таблица 2

Перечень элементов содержания, проверяемых на ОГЭ
по математике

Код	Проверяемый элемент содержания
1	Числа и вычисления
1.1	Натуральные и целые числа. Признаки делимости целых чисел
1.2	Обыкновенные и десятичные дроби, проценты, бесконечные периодические дроби
1.3	Рациональные числа. Арифметические операции с рациональными числами
1.4	Действительные числа. Арифметические операции с действительными числами
1.5	Приближенные вычисления, правила округления, прикидка и оценка результата вычислений
2	Алгебраические выражения
2.1	Буквенные выражения (выражения с переменными)
2.2	Степень с целым показателем. Степень с рациональным показателем. Свойства степени
2.3	Многочлены
2.4	Алгебраическая дробь
2.5	Арифметический корень натуральной степени. Действия с арифметическими корнями натуральной степени
3	Уравнения и неравенства
3.1	Целые и дробно-рациональные уравнения. Системы и совокупности уравнений
3.2	Целые и дробно-рациональные неравенства. Системы и совокупности неравенств
3.3	Решение текстовых задач

4	Числовые последовательности
4.1	Последовательности, способы задания последовательностей
4.2	Арифметическая и геометрическая прогрессии. Формула сложных процентов
5	Функции
5.1	Функция, способы задания функции. График функции. Область определения и множество значений функции. Нули функции. Промежутки знакопостоянства. Промежутки монотонности функции. Максимумы и минимумы функции. Наибольшее и наименьшее значение функции на промежутке
6	Координаты на прямой и плоскости
6.1	Координатная прямая
6.2	Декартовы координаты на плоскости
7	Геометрия
7.1	Геометрические фигуры и их свойства
7.2	Треугольник
7.3	Многоугольники
7.4	Окружность и круг
7.5	Измерение геометрических величин
7.6	Векторы на плоскости
8	Вероятность и статистика
8.1	Описательная статистика
8.2	Вероятность
8.3	Комбинаторика
8.4	Множества
8.5	Графы

Приложение

Формируемые социально-значимые и ценностные отношения.

Целевые ориентиры определены в соответствии с инвариантным содержанием воспитания обучающихся на основе российских базовых (гражданских, конституциональных) ценностей, обеспечивают единство воспитания, воспитательного пространства.

Целевые ориентиры
1 Гражданское воспитание
<p>знающий и принимающий свою российскую гражданскую принадлежность (идентичность) в поликультурном, многонациональном и многоконфессиональном российском обществе, в мировом сообществе;</p> <p>понимающий сопричастность к прошлому, настоящему и будущему народа России, тысячелетней истории российской государственности на основе исторического просвещения, российского национального исторического сознания;</p> <p>проявляющий уважение к государственным символам России, праздникам;</p> <p>проявляющий готовность к выполнению обязанностей гражданина России, реализации своих гражданских прав и свобод при уважении прав и свобод, законных интересов других людей;</p> <p>выражающий неприятие любой дискриминации граждан, проявлений экстремизма,</p>

терроризма, коррупции в обществе;

принимающий участие в жизни класса, общеобразовательной организации, в том числе самоуправления, ориентированный на участие в социально значимой деятельности.

2 Патриотическое воспитание

сознающий свою национальную, этническую принадлежность, любящий свой народ, его традиции, культуру;

проявляющий уважение к историческому и культурному наследию своего и других народов России, символам, праздникам, памятникам, традициям народов, проживающих в родной стране;

проявляющий интерес к познанию родного языка, истории и культуры своего края, своего народа, других народов России;

знающий и уважающий достижения нашей Родины — России в науке, искусстве, спорте, технологиях, боевые подвиги и трудовые достижения, героев и защитников Отечества в прошлом и современности;

принимающий участие в мероприятиях патриотической направленности.

3 Духовно-нравственное воспитание

знающий и уважающий духовно-нравственную культуру своего народа, ориентированный на духовные ценности и нравственные нормы народов России, российского общества в ситуациях нравственного выбора (с учётом национальной, религиозной принадлежности);

выражающий готовность оценивать своё поведение и поступки, поведение и поступки других людей с позиций традиционных российских духовно- нравственных ценностей и норм с учётом осознания последствий поступков;

выражающий неприятие антигуманных и асоциальных поступков, поведения, противоречащих традиционным в России духовно-нравственным нормам и ценностям;

сознающий соотношение свободы и ответственности личности в условиях индивидуального и общественного пространства, значение и ценность межнационального, межрелигиозного согласия людей, народов в России, умеющий общаться с людьми разных народов, вероисповеданий;

проявляющий уважение к старшим, к российским традиционным семейным ценностям, институту брака как союзу мужчины и женщины для создания семьи, рождения и воспитания детей;

проявляющий интерес к чтению, к родному языку, русскому языку и литературе как части духовной культуры своего народа, российского общества.

4 Эстетическое воспитание

выражающий понимание ценности отечественного и мирового искусства, народных традиций и народного творчества в искусстве;

проявляющий эмоционально-чувственную восприимчивость к разным видам искусства, традициям и творчеству своего и других народов, понимание их влияния на поведение людей;

сознающий роль художественной культуры как средства коммуникации и самовыражения в современном обществе, значение нравственных норм, ценностей, традиций в искусстве;

ориентированный на самовыражение в разных видах искусства, в художественном творчестве.

Физическое воспитание, формирование культуры здоровья и эмоционального благополучия:

понимающий ценность жизни, здоровья и безопасности, значение личных усилий в сохранении здоровья, знающий и соблюдающий правила безопасности, безопасного поведения, в том числе в информационной среде;

выражающий установку на здоровый образ жизни (здоровое питание, соблюдение гигиенических правил, сбалансированный режим занятий и отдыха, регулярную физическую активность);

проявляющий неприятие вредных привычек (курения, употребления алкоголя, наркотиков, игровой и иных форм зависимостей), понимание их последствий, вреда для физического и психического здоровья;

умеющий осознавать физическое и эмоциональное состояние (свое и других людей), стремящийся управлять собственным эмоциональным состоянием;

способный адаптироваться к меняющимся социальным, информационным и природным условиям, стрессовым ситуациям.

5 Физическое воспитание

формирование культуры здоровья и эмоционального благополучия:

бережно относящийся к физическому здоровью, соблюдающий основные правила здорового и безопасного для себя и других людей образа жизни, в том числе в информационной среде;

владеющий основными навыками личной и общественной гигиены, безопасного поведения в быту, природе, обществе;

ориентированный на физическое развитие с учетом возможностей здоровья, занятия физкультурой и спортом;

сознающий и принимающий свою половую принадлежность, соответствующие ей психофизические и поведенческие особенности с учетом возраста.

6 Трудовое воспитание

уважающий труд, результаты своего труда, труда других людей; проявляющий интерес к практическому изучению профессий и труда различного рода, в том числе на основе применения предметных знаний;

сознающий важность трудолюбия, обучения труду, накопления навыков трудовой деятельности на протяжении жизни для успешной профессиональной самореализации в российском обществе;

участвующий в решении практических трудовых дел, задач (в семье, общеобразовательной организации, своей местности) технологической и социальной направленности, способный инициировать, планировать и самостоятельно выполнять такого рода деятельность;

выражающий готовность к осознанному выбору и построению индивидуальной траектории образования и жизненных планов с учётом личных и общественных интересов, потребностей.

7 Экологическое воспитание

понимающий значение и глобальный характер экологических проблем, путей их решения, значение экологической культуры человека, общества;

сознающий свою ответственность как гражданина и потребителя в условиях взаимосвязи природной, технологической и социальной сред;

выражающий активное неприятие действий, приносящих вред природе; ориентированный на применение знаний естественных и социальных наук для решения задач в области охраны природы, планирования своих поступков и оценки их возможных последствий для окружающей среды;

участвующий в практической деятельности экологической, природоохранной

направленности.

8 Ценности научного познания

выражающий познавательные интересы в разных предметных областях с учётом индивидуальных интересов, способностей, достижений;

ориентированный в деятельности на научные знания о природе и обществе, взаимосвязях человека с природной и социальной средой;

развивающий навыки использования различных средств познания, накопления знаний о мире (языковая, читательская культура, деятельность в информационной, цифровой среде);

демонстрирующий навыки наблюдений, накопления фактов, осмысления опыта в естественнонаучной и гуманитарной областях познания, исследовательской деятельности.

**ДОКУМЕНТ ПОДПИСАН
ЭЛЕКТРОННОЙ ПОДПИСЬЮ**

СВЕДЕНИЯ О СЕРТИФИКАТЕ ЭП

Сертификат 256233904371995990837526139856067300059550830107

Владелец Федотова Наталья Юрьевна

Действителен с 07.11.2025 по 07.11.2026